

知識・技能

10000までの数のあらわし方、正方形・長方形・直角三角形、かさや長さのたんのいのかんけい、長さの大小、時こくや時間がわかる。(12~7)
たし算やひき算のひっ算やかけ算九九ができる。(23)

1 つぎの 数を 数字で 書きましょう。

各5点[15]

① 100を 4こと、10を 2こと、
1を 7こ 合わせた 数。(427)

② 1000を 6こと、10を 8こと、
1を 5こ 合わせた 数。(6085)

③ 100を 59こ
あつめた 数。(5900)

2 計算を しましょう。

各5点[20]

※十・百の位にくり上がる

①
$$\begin{array}{r} 76 \\ + 58 \\ \hline 134 \end{array}$$

※十の位にくり上がる

②
$$\begin{array}{r} 235 \\ + 47 \\ \hline 282 \end{array}$$

※波及的にくり下がる

③
$$\begin{array}{r} 106 \\ - 38 \\ \hline 68 \end{array}$$

※一の位にくり下がる

④
$$\begin{array}{r} 351 \\ - 4 \\ \hline 347 \end{array}$$

3 かけ算を しましょう。

各5点[20]

① $3 \times 8 = 24$

② $9 \times 5 = 45$

③ $8 \times 7 = 56$

④ $7 \times 4 = 28$

4 正方形、長方形、直角三角形は
どれですか。

※長方形を①と②とした児童がいた場合、その理由を尋ねて
みて下さい。「4つの角が全て直角な四角形 各5点[15]
だから、①も長方形です。」と答えた場合は正答とします。

あ い う

え お か

▶正方形 (い)

▶長方形 (え)

▶直角三角形 (お)

5 □に あう 数を 書きましょう。

各5点[10]

① 1L = 1000 mL

② 300cm = 3 m

6 □に あう >、<、=を 書きましょう。

各5点[10]

① 90cm < 1 m

② 4m3cm = 403cm

7 右の 時計の 時こくは、
午前8時20分です。

各5点[10]



① 20分前の 時こくは、
何時ですか。

((午前) 8時)

② 午前9時までは、あと 何分間
ありますか。

(40分(間))



学年の まとめ

上 12 下 100

くみ ばん

思考・判断・表現

/100 てん

出題範囲 1. ひょうと グラフ~ 20. しりょうの せいり

思考・判断・表現

- もんだいのばめんを考えてしきをたて、答えをもとめることができる。(1~356)
- かけ算のしきのいみを考えることができる。(4)

1 94円の ノートと、78円の ペンを 買います。ぜんぶで 何円ですか。

式・答え各5点[10]

(しき)

$$94 + 78 = 172$$

式の採点基準

~~~~の部分 が 正しければ、5点 を 配点してもよい。→ 1~356

ひっ算スペース <採点対象外>

$$\begin{array}{r} 94 \\ + 78 \\ \hline 172 \end{array}$$

こた 答え ( 172円 )

2 赤い 花が 125本、白い 花が 69本 あります。ちがいは 何本ですか。

式・答え各5点[10]

(しき)

$$125 - 69 = 56$$

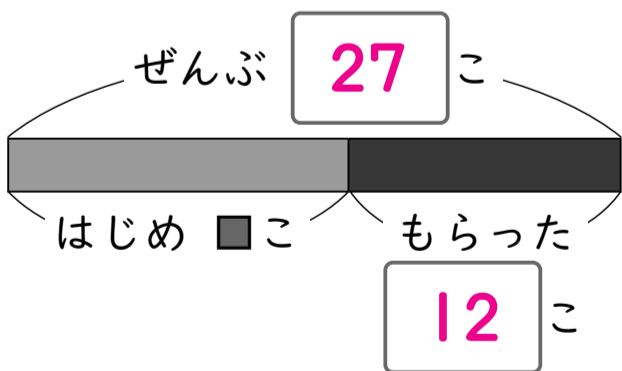
$$\begin{array}{r} 125 \\ - 69 \\ \hline 56 \end{array}$$

こた 答え ( 56本 )

3 ビー玉が 何こか あります。妹に 12こ もらったので、27こに なりました。

式・答え各5点[20]

① □に あう 数を 書きましょう。



② ビー玉は、はじめに 何こ ありましたか。

(しき)

$$27 - 12 = 15$$

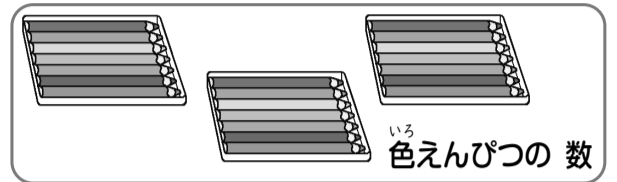
$$\begin{array}{r} 27 \\ - 12 \\ \hline 15 \end{array}$$

こた 答え ( 15こ )

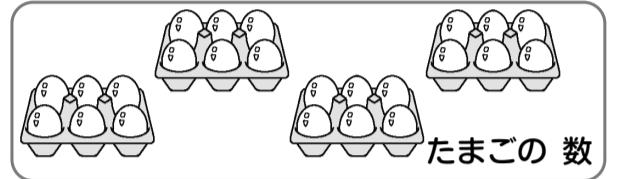
4 しきに あう 絵を えらんで、線で むすびましょう。

各5点[20]

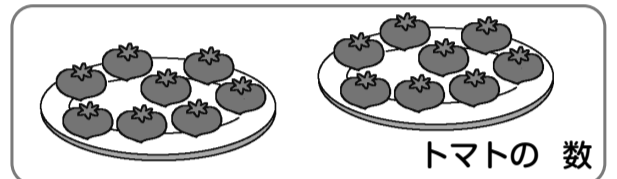
$$8 \times 2$$



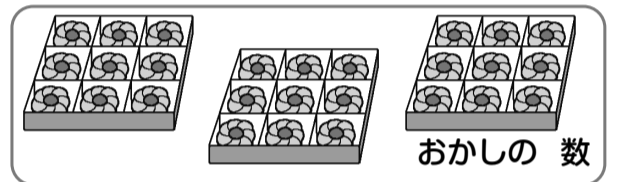
$$6 \times 4$$



$$9 \times 3$$



$$7 \times 3$$



5 あめを 1人に 4こずつ くばります。

式・答え各5点[20]

① 8人に くばるには、あめは ぜんぶで 何こ いりますか。

(しき)

$$4 \times 8 = 32$$

<別式>  $8 \times 4 = 32$

こた 答え ( 32こ )



しきは、下の やくそくて 書こうね。

1人分の 数 × 何人分

② 1人 ふえて、9人に くばります。 あめは ぜんぶで 何こ いりますか。

(しき)

※①の場面の変化に着目して、 $32+4$ の式で 考えている子がいたらほめてあげてください。

$$4 \times 9 = 36$$

<別式>  $32 + 4 = 36$   
 $9 \times 4 = 36$

こた 答え ( 36こ )

6 1 m 45 cmの テープと、30 cmの テープが あります。

各5点[20]

① 合わせると 何m何cmに なりますか。

(しき)

$$1 \text{ m } 45 \text{ cm} + 30 \text{ cm} = 1 \text{ m } 75 \text{ cm}$$

こた 答え ( 1 m 75 cm )

② ちがいは 何m何cmですか。

(しき)

$$1 \text{ m } 45 \text{ cm} - 30 \text{ cm} = 1 \text{ m } 15 \text{ cm}$$

こた 答え ( 1 m 15 cm )