

さんすう

なつやすみまえの まとめ

出題範囲 1. なかまづくりと かず~4. のこりは いくつ ちがいは いくつ

なまえ
1-①
3
1-②
25

くみ ばん

知識・技能

/100
てん

知識・技能

- 10までの かずの かぞえかたや かきかた、おおきさ、じゅんばんが わかる。(1~4)
- 10までの かずを いくつと いくつに わける ことや、たしざん、ひきざんが できる。(5~7)

1 かずを かきましょう。

各10点[20]

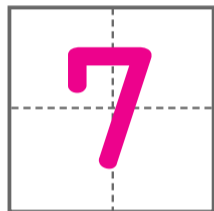


こども



にん

さかな



ひき

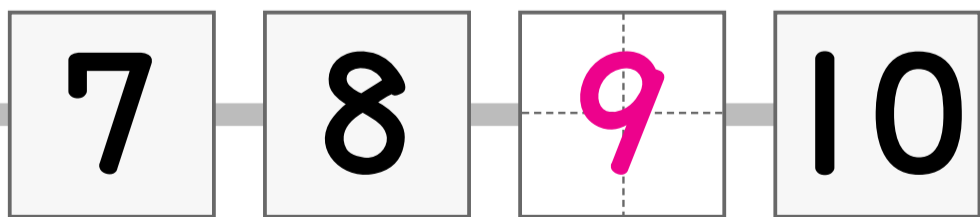
2 かずの おおきい ほうに ○を つけましょう。

[10]



3 にあう かずを かきましょう。

[10]



4 まえから 4だいに いろを ぬりましょう。

[10]

採点基準

正しいものを○で かこんでいてもよい。

まえ



うしろ

5 にあう かずを かきましょう。

各5点[10]

① 5は 2と 3

② 10は 1と 9

6 たしざんを しましょう。

各5点[20]

① $2 + 2 =$ 4

② $5 + 3 =$ 8

③ $3 + 7 =$ 10

④ $0 + 6 =$ 6

7 ひきざんを しましょう。

各5点[20]

① $7 - 3 =$ 4

② $9 - 6 =$ 3

③ $10 - 8 =$ 2

④ $5 - 0 =$ 5

さんすう

なつやすみまえの まとめ

出題範囲 1. なかまづくりと かず 4. のこりは いくつ ちがいは いくつ

なまえ
1-①
3
1-②
25

くみ

ばん

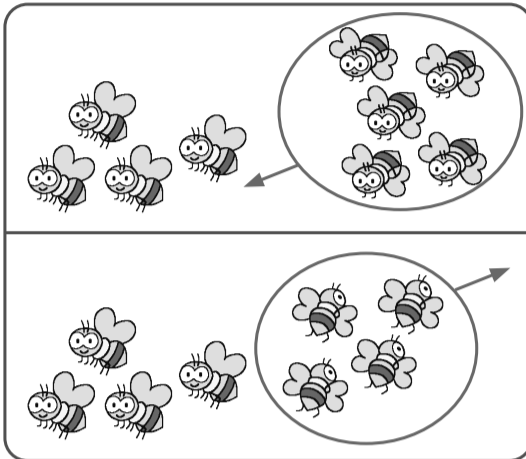
思考・判断・表現 ●もんだいの ばめんを かんがえて しきを かき、こたえを もとめる ことが できる。(◆)

◆ ぶんにあう えを えらんで、^{せん}で おすびましょう。
しきと こたえも かきましょう。

10点、式・答え各5点[100]

◎このページは、文の読み取りをみるために、線むすびに重きを置いた配点にしています。

① はちが 4ひき
います。5ひき
とんで きました。
ぜんぶで なんびきに
なりましたか。



〔しき〕

$$4 + 5 = 9$$

式の採点基準

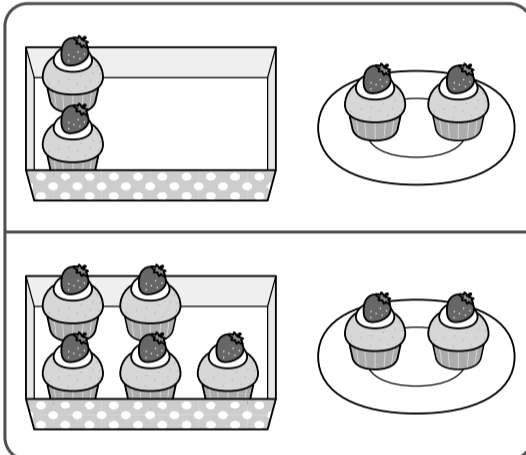
〜の部分 が 正し
ければ、5点 を
配点 してもよい。

こたえ

9

ひき

② けえきが はこに
5こ、おさらに
2こ あります。
あわせて なんこ
ありますか。



〔しき〕

$$5 + 2 = 7$$

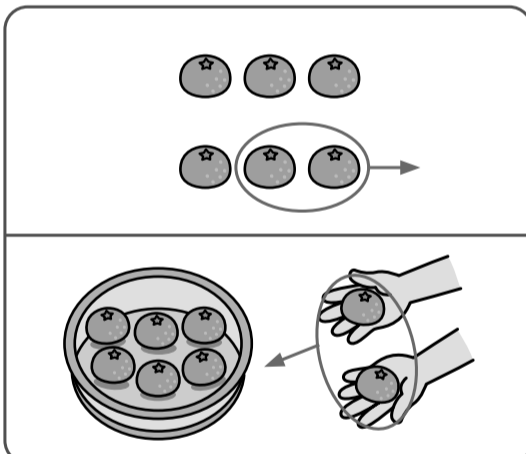
〔しき〕は、2+5=7でもよい。

こたえ

7

こ

③ みかんが 6こ
あります。2こ
たべました。
のこりは なんこに
なりますか。



〔しき〕

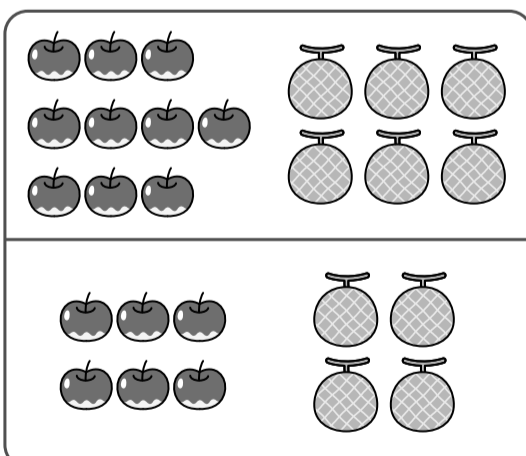
$$6 - 2 = 4$$

こたえ

4

こ

④ りんごが 10こ、
めろんが 6こ
あります。りんごは、
めろんより なんこ
おおいですか。



〔しき〕

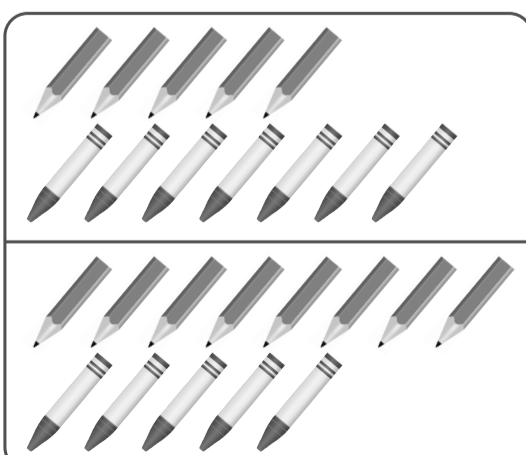
$$10 - 6 = 4$$

こたえ

4

こ

⑤ えんぴつが
8ほん、くれよんが
5ほん あります。
かずの ちがいは
なんぼんですか。



〔しき〕

$$8 - 5 = 3$$

こたえ

3

ぼん