

さんすう

なつ休みまえの まとめ

な
ま
え
12
~
99

くみ ばん

知識・技能

/100
てん

出題範囲 1. ひょうと グラフ~ 8. 1000までの 数

知識・技能

• グラフの読み方、1000までの数のあらわし方、時こくの読み方や時間のもともめ方、長さのはかり方やたんいのかんけいがかかる。(124~7)
• たし算とひき算のひっ算ができる。(8)

1 おかしの 数を しらべました。 各5点[15]

おかしの 数 ① ゼリーは 何こですか。 (5こ)

○		
○		
○	○	
○	○	
○	○	○
○	○	○
○	○	○
あめ	ゼリー	ケーキ

② いちばん 多い おかしは 何ですか。 (あめ)

③ あめは、ケーキより 何こ 多いですか。 (4こ)

2 つぎの 数を 数字で 書きましょう。 各5点[15]

① 二百八十一 (281)

② 100を 4こ、1を 9こ 合わせた 数。 (409)

③ 10を 50こ あつめた 数。 (500)

3 計算を しましょう。 各5点[30]



※くり上がりなし ① $\begin{array}{r} 16 \\ + 23 \\ \hline 39 \end{array}$	※くり上がりあり ② $\begin{array}{r} 43 \\ + 39 \\ \hline 82 \end{array}$
※くり上がりあり ③ $\begin{array}{r} 75 \\ + 15 \\ \hline 90 \end{array}$	※くり下がりなし ④ $\begin{array}{r} 69 \\ - 27 \\ \hline 42 \end{array}$
※くり下がりあり ⑤ $\begin{array}{r} 54 \\ - 19 \\ \hline 35 \end{array}$	※くり下がりあり ⑥ $\begin{array}{r} 72 \\ - 68 \\ \hline 4 \end{array}$



4 つぎの 時こくを 午前、午後を つかって 書きましょう。 各5点[10]

① **朝**  (午前10時25分)

② **夜**  (午後6時54分)

5 つぎの 時間を もとめましょう。 各5点[10]

① **あ**  → **い** 
午後3時15分 → 午後3時35分
▶あから いまでの 時間 (20分(間))

② **う**  → **え** 
午前10時 → 午後2時
▶うから えまでの 時間 (4時間)

6 つぎの 直線の 長さを はかりましょう。 各5点[10]

①  (2cm (20mm))

②  (5cm 3mm (53mm))

〈採点基準〉
±1mm以内の誤差は許容

7 □に あう 数を 書きましょう。 各5点[10]

① 1cm = mm

② 67mm = cm mm

(完答)



なつ休みまえの まとめ

な
ま
え
12
99

出題範囲 1. ひょうと グラフ～ 8. 1000までの 数

くみ ばん


思考・判断・表現

/100
てん

思考・判断・表現 • もんだいのばめんを考えてしきをたて、答えをもとめることができる。(1～5)

1 つぎのおかしを ^か買います。
^あ合わせて ^{なん}何円ですか。

式・答え各10点[20]



(しき)
30+90=120

式の採点基準
~~~~の部分<sup>が</sup>正しければ、  
10点を配点してもよい。→1～4

こた 答え ( 120円 )

2 子どもが 47人 います。16人  
くると、みんなで 何人 になりますか。

式・答え各10点[20]

(しき)  
47+16=63

ひっ算スペース  
(採点対象外)  
$$\begin{array}{r} 47 \\ +16 \\ \hline 63 \end{array}$$

こた 答え ( 63人 )

3 赤い 花が 60本、黄色い 花が  
29本 あります。ちがいは 何本 ですか。

式・答え各10点[20]


(しき)  
60-29=31

$$\begin{array}{r} 60 \\ -29 \\ \hline 31 \end{array}$$

こた 答え ( 31本 )

4 下の <sup>せん</sup>線の <sup>なが</sup>長さは どれだけ  
ですか。

式・答え各10点[20]



(しき)  
3cm 5mm + 5cm 2mm = 8cm 7mm

こた 答え ( 8cm 7mm )

5 えりさんは、シールを 34まい  
もっています。まみさんは、  
えりさんより 8まい <sup>すく</sup>少ないそうです。

[20]

① 文に あう 図に ○を つけましょう。  
(10)

|                                  |      |            |  |
|----------------------------------|------|------------|--|
|                                  | まみさん | □まい        |  |
|                                  | えりさん | 8まい<br>少ない |  |
|                                  |      | 34まい       |  |
| <input checked="" type="radio"/> | えりさん | 34まい       |  |
|                                  | まみさん | 8まい<br>少ない |  |
|                                  |      | □まい        |  |

② まみさんは、何まい もっていますか。  
式・答え各5点(10)

(しき)  
34-8=26

式の採点基準  
~~~~の部分<sup>が</sup>正しければ、  
5点を配点してもよい。

$$\begin{array}{r} 34 \\ -8 \\ \hline 26 \end{array}$$

こた 答え (26まい)