

さんすう

なつやすみまえの まとめ

なまえ
2
53

出題範囲 たんけん～4. あわせていくつ ふえるといくつ

くみ ばん

知識・技能

/100
てん

知識・技能

- 10までの かずの かぞえかたや かきかた、おおきさ、じゅんばんが わかる。(1～4)
- 10までの かずを いくつと いくつに わけることや、たしざんが できる。(5⑥)

1 かずを かきましょう。

各10点[20]



こども

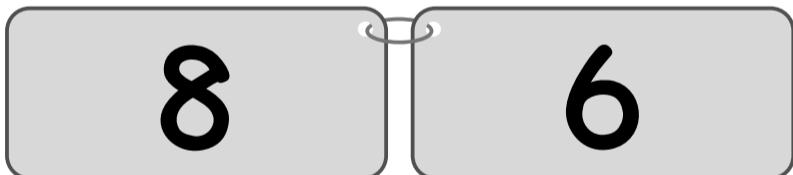
3 にん

さかな

7 ひき

2 かずの おおきい ほうに ○を つけましょう。

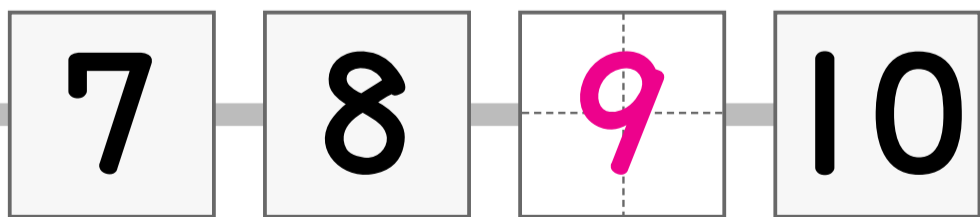
[10]



(○) ()

3 3x3 grid に あう かずを かきましょう。

[10]



4 まえから 4 だいに いろを ぬりましょう。

[10]

採点基準

正しいものを○で かこんでいてもよい。

まえ



こう

5 3x3 grid に あう かずを かきましょう。

各5点[10]

① 8 は 4 と 4

② 10 は 7 と 3

6 たしざんを しましょう。

各5点[40]

① 2 + 1 = 3

② 3 + 3 = 6

③ 1 + 7 = 8

④ 6 + 3 = 9

⑤ 5 + 4 = 9

⑥ 4 + 6 = 10

⑦ 8 + 0 = 8

⑧ 0 + 0 = 0

さんすう

なつやすみまえの まとめ

な
ま
え
2
53

出題範囲 たんけん～4. あわせていくつ ふえるといくつ

くみ ばん

思考・判断・表現


/100
てん

思考・判断・表現
●もんだいの ばめんを かんがえて しきを かき、こたえを もとめる ことが できる。(13)
●しきに あう ばめんを みつける ことが できる。(2)

1 こうえんで こどもが あそんでいます。すなばに **3** にん、すべりだいに **4** にん います。あわせて なんにん いますか。

[40]

① ぶんに あう えに、
○を つけましょう。(10)



② こどもは あわせて なんにん いますか。

式・答え各15点(30)

(しき) $3 + 4 = 7$ 式の採点基準 こたえ 7 にん
~~~~の部分が正しければ、15点を配点してもよい。→13

(しき)は、 $4 + 3 = 7$ でもよい。


**2** しきに あう えを えらんで、<sup>せん</sup>で おすびしましょう。 各15点(30)

①  $3 + 2 = 5$

②  $5 + 1 = 6$

**3** はちが **4** ひき います。**2** ひき とんでくると、はちは ぜんぶで なんびきに なりますか。

式・答え各15点(30)



(しき)  $4 + 2 = 6$

こたえ  $6$  びき