

知識・技能

- 1000までの数のあらわし方、時こくの読み方、グラフのよみ方がわかる。(157)
- たし算やひき算、直線の長さをはかること、時間をもとめることができる。(2~46)

1 つぎの <sup>かず</sup>数を <sup>すうじ</sup>数字で かきましょう。  
各5点[15]

- ① 二百八十一 ( 281 )
- ② 100を4こ、1を9こあわせた数 ( 409 )
- ③ 10を50こあつめた数 ( 500 )

2 計算を しましょう。  
各5点[10]



※くり上がりあり  
①  $27 + 4 = 31$

※くり下がりあり  
②  $32 - 9 = 23$

3 計算を しましょう。  
各5点[30]

※くり上がりなし ① $\begin{array}{r} 16 \\ + 23 \\ \hline 39 \end{array}$	※くり上がりあり ② $\begin{array}{r} 43 \\ + 39 \\ \hline 82 \end{array}$
※くり上がりあり ③ $\begin{array}{r} 75 \\ + 15 \\ \hline 90 \end{array}$	※くり下がりなし ④ $\begin{array}{r} 69 \\ - 27 \\ \hline 42 \end{array}$
※くり下がりあり ⑤ $\begin{array}{r} 54 \\ - 19 \\ \hline 35 \end{array}$	※くり下がりあり ⑥ $\begin{array}{r} 72 \\ - 68 \\ \hline 4 \end{array}$

4 つぎの <sup>ちよくせん</sup>直線の <sup>なが</sup>長さを はかりましょう。  
各5点[10]



- ①  ( 2 cm (20mm) )  
〈採点基準〉  
±1mm以内の誤差は許容
- ②  ( 5 cm 3 mm (53mm) )



5 つぎの <sup>じ</sup>時こくを <sup>ごぜん</sup>午前や <sup>ごご</sup>午後を  
つかって かきましょう。  
各5点[10]

① <sup>あさ</sup>朝  ( 午前10時25分 )

② <sup>よる</sup>夜  ( 午後6時54分 )

6 つぎの <sup>じかん</sup>時間を もとめましょう。  
各5点[10]

① <sup>あ</sup> → <sup>い</sup>  
午後3時15分 → 午後3時35分  
▶あから いまでの 時間 ( 20分(間) )

② <sup>う</sup> → <sup>え</sup>  
午前10時 → 午後2時  
▶うから えまでの 時間 ( 4時間 )

7 おかしの 数を しらべました。 各5点[15]

おかしの 数しらべ

	●	
	●	
	●	●
●	●	●
●	●	●
●	●	●
あめ	ゼリー	ケーキ

① ケーキは <sup>なん</sup>何こですか。 ( 5こ )

② いちばん <sup>おお</sup>多い おかしは何ですか。 ( ゼリー )

③ ゼリーは、あめより 何こ多いですか。 ( 4こ )



なつ休みまえの まとめ

な  
ま  
え  
10  
86

出題範囲 1. ひょうと グラフ~6. 100を こえる 数

くみ ばん


思考・判断・表現

/100  
てん

思考・判断・表現 • もんだいのばめんを考へてしきをたて、答えをもとめることができる。(1~5)

1 つぎのおかしを <sup>か</sup>買います。  
あわせて <sup>なん</sup>何円ですか。

式・答え各10点[20]



(しき)

30+90=120

式の採点基準

~~~~の部分<sup>が</sup>正しければ、10点を配点してもよい。→1~3

こた 答え ( 120円 )

2 子どもが 47人 います。16人  
く来ると、みんなで 何人<sup>に</sup> になりますか。

式・答え各10点[20]

(しき)

47+16=63

ひっ算スペース  
(採点対象外)

47  
+16  
---  
63

こた 答え ( 63人 )

3 赤い 花が 60本、<sup>きいろ</sup>黄色い 花が  
29本 あります。赤い 花の <sup>おほ</sup>ほうが  
何本 多いですか。

式・答え各10点[20]

(しき)

60-29=31

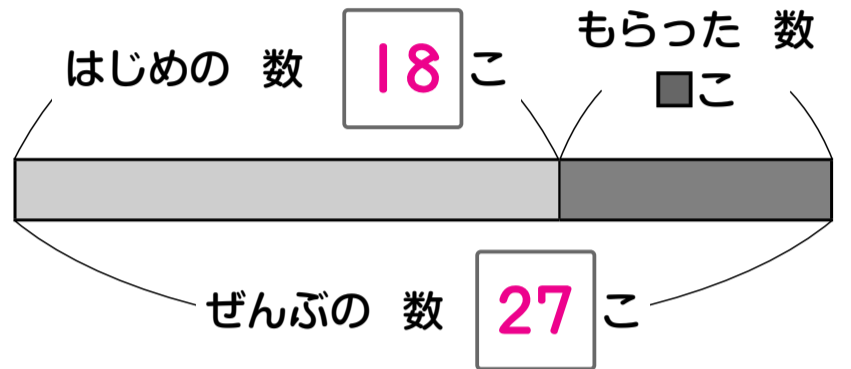
60  
-29  
---  
31

こた 答え ( 31本 )

4 あめを 18こ もって いました。  
<sup>ねえ</sup>お姉さんから 何こか もらったので、  
ぜんぶで 27こに なりました。

図・式・答え各5点[20]

① □に <sup>かず</sup>あう 数を かきましょう。



② 何こ もらいましたか。

(しき)

27-18=9

27  
-18  
---  
9

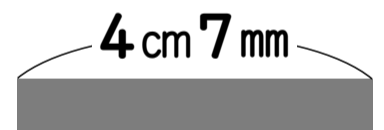
式の採点基準

~~~~の部分<sup>が</sup>正しければ、5点を配点してもよい。  
→45

こた 答え ( 9こ )

5 2本の テープが あります。

式・答え各5点[20]



① あわせた <sup>なが</sup>長さは どれだけですか。

(しき)

3cm 2mm + 4cm 7mm = 7cm 9mm

こた 答え ( 7cm 9mm )

② 長さの ちがいは どれだけですか。

(しき)

4cm 7mm - 3cm 2mm = 1cm 5mm

こた 答え ( 1cm 5mm )

みなおしたら、○を つけましょう。( )