

さんすう なつやすみまえの まとめ

なまえ
① 4
② 11

出題範囲 わくわく がっこう～6. たしざん(1)

くみ ばん

知識・技能

/100
てん

知識・技能
・10までの かずの かぞえかたや かきかた、おおきさ、じゅんばん、かたちが わかる。(1)～(4)
・10までの かずを いくつと いくつに わける ことや、たしざんが できる。(5)(6)

1 かずを かきましょう。 各10点[20]



こども

3 にん

さかな

7 ひき

2 かずの おおきい ほうに ○を つけましょう。 [10]

() 5 8 (○)


3 まえから 4 だいに いろを ぬりましょう。 [10]

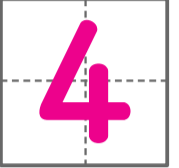
採点基準
正しいものを○で
かこんでいてもよい。



4 ●の なかまの かたちを ○を つけましょう。 [10]

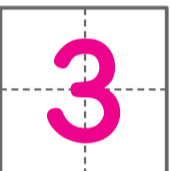


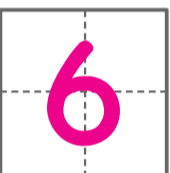
5 に あう かずを かきましょう。 各5点[10]

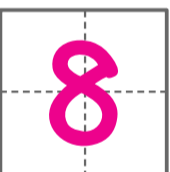
① 8は 4と 


② 10は 7と 


6 たしざんを しましょう。 各5点[40]

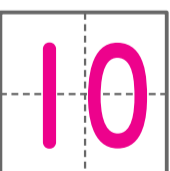
① $2 + 1 =$ 

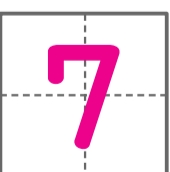
② $3 + 3 =$ 

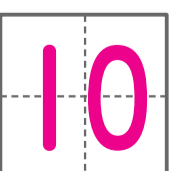
③ $1 + 7 =$ 

④ $6 + 3 =$ 

⑤ $5 + 4 =$ 

⑥ $4 + 6 =$ 

⑦ $2 + 5 =$ 

⑧ $9 + 1 =$ 



なつやすみまえの まとめ

出題範囲 わくわく がっこう～6. たしざん(1)

なまえ
① 4
② 11

くみ ばん

思考・判断・表現


/100
てん

思考・判断・表現
●もんだいの ばめんを かんがえて しきを かき、こたえを もとめる ことが できる。(1) ●しきに あう ばめんを みつける ことが できる。(2)
●うつしとった かたちで かいた えが、どの かたちを つかって かいたのかを かんがえる ことが できる。(3)

1 こうえんで こどもが あそんで います。すなばに 3にん、すべりだいに 4にん います。

[40]

① ぶんに あう えに、
○を つけましょう。(10)



② こどもは あわせて なんにん いますか。

式・答え各15点(30)

(しき) $3 + 4 = 7$ 式の採点基準 こたえ 7 にん
~~~~の部分 が 正しければ、15点を配点してもよい。

(しき)は、 $4 + 3 = 7$ でもよい。


2 しきに あう えを えらんで、<sup>せん</sup>で むすびましょう。 各15点[30]

①  $3 + 2 = 5$

②  $5 + 1 = 6$

3 ㉠、㉡、㉢の つみきの かたちを うつして、したの えをかきました。どの つみきを なんかい つかいましたか。

各10点[30]



㉠ 1 かい

㉡ 2 かい

㉢ 2 かい