

さんすう

ぜんきの まとめ

なまえ
2
69

くみ ばん


知識・技能

/100
てん

出題範囲 たんけん～5. のこりは いくつ ちがいは いくつ

知識・技能
• 10までの かずの かぞえかたや かきかた、じゅんばんが わかる。(1～3)
• 10までの かずを いくつと いくつに わけることや、たしざん、ひきざんが できる。(4～6)

1 かずを かきましょう。 各10点[20]



とり

5 わ

こども

4 にん

2 □にあう かずを かきましょう。 [10]

4 5 6 7

3 いろを ぬりましょう。 各10点[20]

① ひだりから 2つ。 採点基準 正しいものを○で かこんでいてもよい。

ひだり 2 cups (filled) 4 cups (empty) みぎ

② みぎから 5つぬ。

ひだり 5 cups (empty) 1 cup (filled) みぎ

4 □にあう かずを かきましょう。 各5点[10]

① 5は 2と 3

② 10は 1と 9

5 たしざんを しましょう。 各5点[20]

① 5 + 3 = 8

② 4 + 4 = 8

③ 3 + 7 = 10

④ 0 + 6 = 6

6 ひきざんを しましょう。 各5点[20]

① 7 - 3 = 4

② 9 - 6 = 3

③ 10 - 8 = 2

④ 5 - 0 = 5

出題範囲 たんけん～5. のこりは いくつ ちがいは いくつ

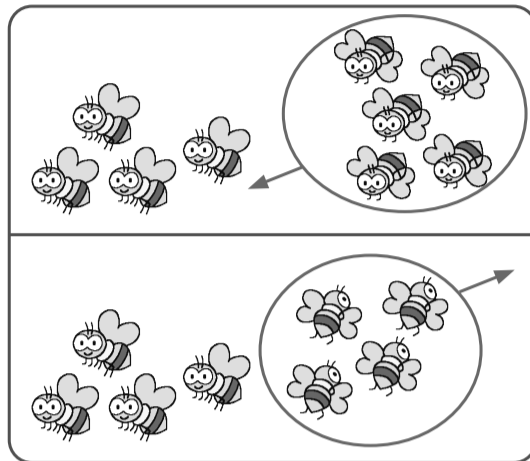
思考・判断・表現 • もんだいの ばめんを かんがえて しきを かき、こたえを もとめる ことが できる。(◆)

◆ ぶんにあう えを えらんで、^{せん}で おすびましょう。
しきと こたえも かきましょう。

10点、式・答え各5点[100]

◎このページは、文の読み取りを見るために、線むすびに重きを置いた配点にしています。

① はちが 4ひき
います。5ひき
とんできました。
ぜんぶで なんびき
になりましたか。



〔しき〕

4 + 5 = 9

式の採点基準

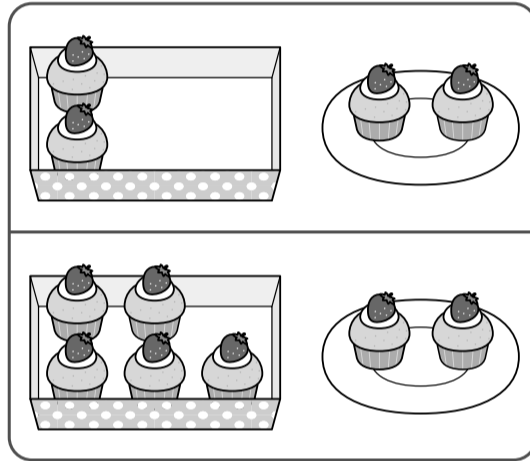
～の部分
が正し
ければ、
5点を
配点し
てもよ
い。

こたえ

9

ひき

② けえきが はこに
5こ、おさらに
2こ あります。
あわせて なんこ
ありますか。



〔しき〕

5 + 2 = 7

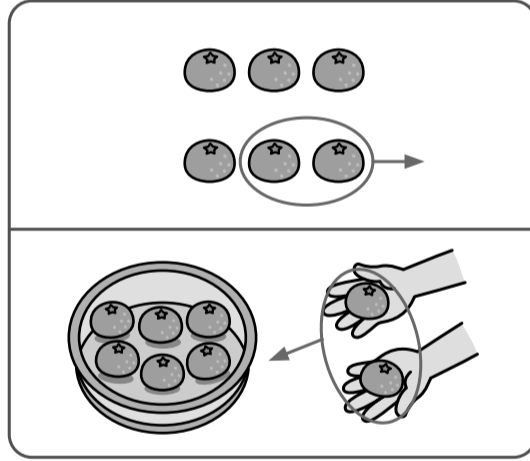
〔しき〕は、2+5=7でもよい。

こたえ

7

こ

③ みかんが 6こ
あります。2こ
たべました。
のこりは なんこに
なりましたか。



〔しき〕

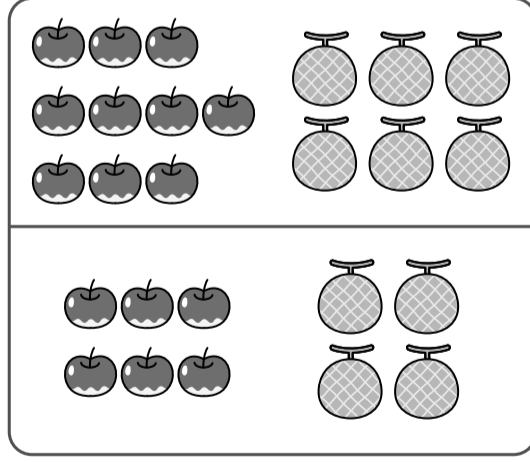
6 - 2 = 4

こたえ

4

こ

④ りんごが 10こ、
めろんが 6こ
あります。りんごは
めろんより なんこ
おいですか。



〔しき〕

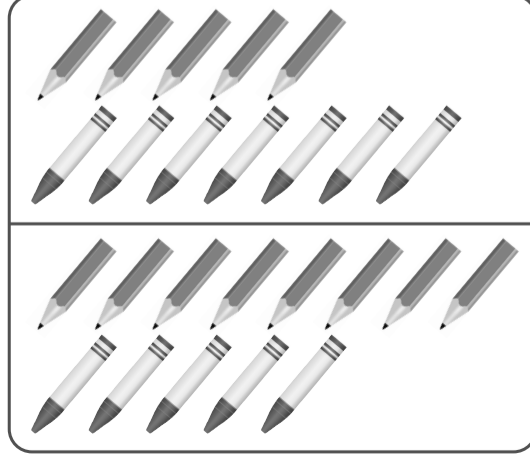
10 - 6 = 4

こたえ

4

こ

⑤ えんぴつが 8ぽん、
くれよんが 5ほん
あります。ちがいは
なんぼんですか。



〔しき〕

8 - 5 = 3

こたえ

3

ぼん