

# 算数

## 冬休み前のまとめ

出題範囲 8. あまりのあるわり算～13. 小数

名前  
上 82  
下 29

組 番

知識・技能

/100  
点

知識・技能

- 一万をこえる大きい数の表し方、小数のしくみ、円の部分の名前やそのかんけいわかる。(127)
- あまりのあるわり算、大きい数のわり算、もとの長さをもとめること、かけ算の筆算、小数のたし算・ひき算ができる。(8～6)

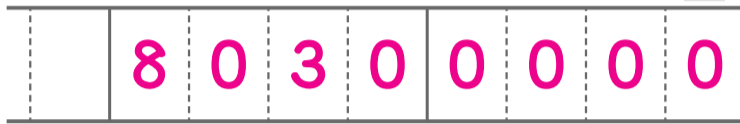
1 つぎ 次の数を数字で書きましょう。

各5点[15]

① 二百三十万六千



② 千万を8こ、十万を3こあわせた数



③ 1000を154こ集めた数



2 □にあてはまる数を書きましょう。

各5点[10]

① 1を3こ、0.1を8こあわせた数は

3.8 です。

② 0.1を26こ集めた数は 2.6 です。

3 わり算をしましょう。

各5点[15]

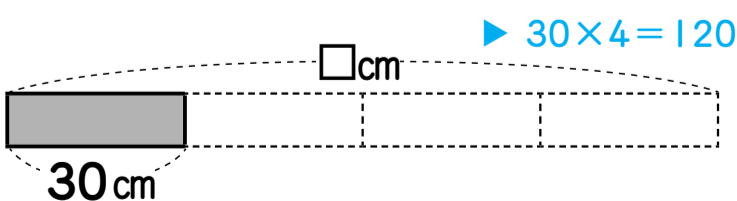
①  $14 \div 3 = 4$  残り  $2$

②  $59 \div 8 = 7$  残り  $3$

③  $48 \div 4 = 12$

4 もとの長さの  $\frac{1}{4}$  が 30cm でした。もとの長さは何cmですか。

[5]



( 120cm )

5 かけ算をしましょう。

各5点[20]

※十の位にくり上がる

$$\begin{array}{r} 27 \\ \times 3 \\ \hline 81 \end{array}$$

※十、百の位にくり上がる

$$\begin{array}{r} 38 \\ \times 5 \\ \hline 190 \end{array}$$

※十、百の位にくり上がる

$$\begin{array}{r} 124 \\ \times 8 \\ \hline 992 \end{array}$$

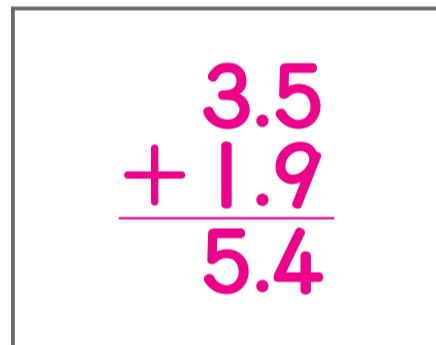
※十、百、千の位にくり上がる

$$\begin{array}{r} 389 \\ \times 7 \\ \hline 2723 \end{array}$$

6 ひっさん 筆算でしましょう。

各5点[20]

①  $3.5 + 1.9$



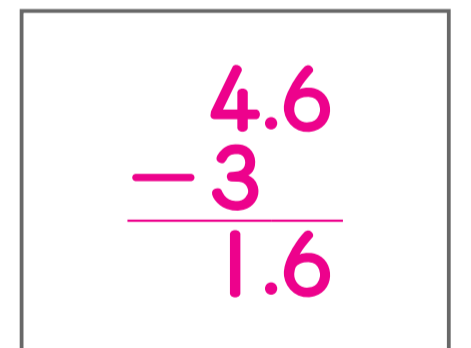
②  $2.4 + 5.6$



③  $6.1 - 5.8$

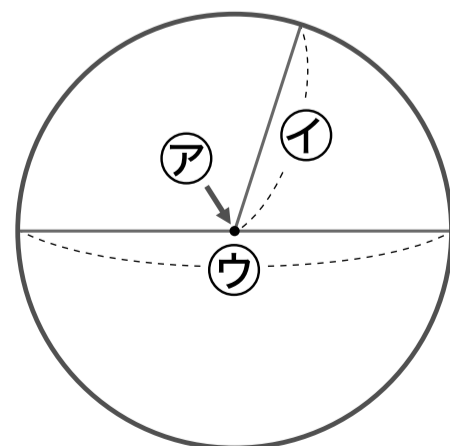


④  $4.6 - 3$



7 下の円を見て答えましょう。

各5点[15]



① ア、ウを円の何と  
いいますか。

ア ( 中心 )

ウ ( 直径 )

② イの長さが4cmのとき、ウの長さは  
何cmですか。

( 8cm )  
【考え方】  $4 \times 2 = 8$

