

# さんすう

## ふゆやすみまえの まとめ

32  
75  
なまえ

出題範囲 6. わかりやすく せいりしよう ~ 12. かたちあそび


くみ ばん


知識・技能

/100  
てん

知識・技能  
・10より おおきい かず、かたちの なかま、とけいの よみかた、かさや かずの くらべかたが わかる。(1~5)  
・10より おおきい かずの けいさんや、3つの かずの けいさん、たしざんが できる。(6~8)

1 かずを かきましょう。 [10]



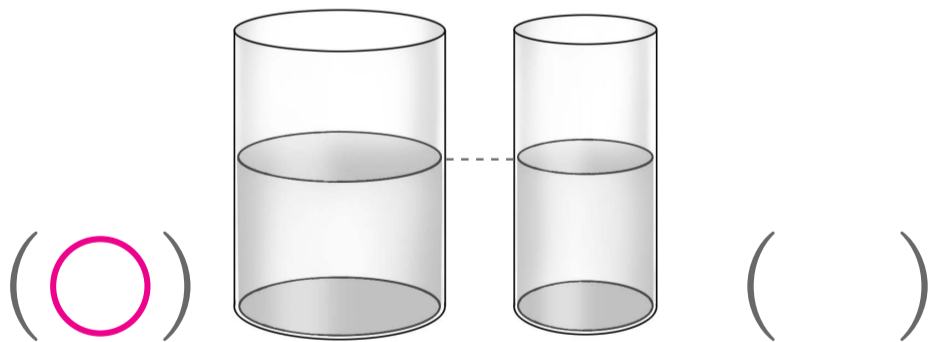
2  の かたちの なかまに ○ を つけましょう。 [10]



3 とけいを よみましょう。 [10]


















4 おおく はいって いる ほうに ○ を つけましょう。 [10]



5 おかしの かずだけ いろを ぬりました。 あめの かずは なんこですか。 [10]

( 4こ )

		
		
		
		
		
けえき	あめ	せんべい

6 けいさんを しましょう。 各5点[10]

①  $10 + 8 = 18$

②  $16 - 2 = 14$

7 けいさんを しましょう。 各5点[20]

①  $4 + 1 + 3 = 8$

②  $12 - 2 - 4 = 6$

③  $10 - 8 + 3 = 5$

④  $6 + 2 - 5 = 3$

8 たしざんを しましょう。 各5点[20]

①  $9 + 2 = 11$

②  $8 + 5 = 13$

③  $7 + 8 = 15$

④  $6 + 7 = 13$



ふゆやすみまえの まとめ

なまえ 32/75

くみ ばん

思考・判断・表現


/100 てん

出題範囲 6. わかりやすく せいりしよう ~ 12. かたちあそび

思考・判断・表現 • もんだいの ばめんを かんがえて しきを かき、こたえを もとめる ことが できる。(1~3) • うつしとった かたちで かいた えが、どの かたちを つかって かいたのかを かんがえる ことが できる。(4)

1 はとが 6わ いました。5わ とんで きました。 [30]

① ぶんにあう えに、○を つけましょう。 (10)



② ぜんぶで なんわに なりましたか。 式・答え各10点(20)

(しき)

6 + 5 = 11

式の採点基準

~~~~の部分が正しければ、10点を配点してもよい。→1~3

こたえ ( 11わ )

2 りすが 15ひき、さるが 3ひき います。

どちらが なんひき おおいですか。 式・答え各10点[20]

(しき)

15 - 3 = 12

こたえ

( りすが 12 ひき おおい。 ) (完答)

3 こどもが 7にん いました。3にん きました。そのあと 5にん かえりました。こどもは なんにんに なりましたか。 式・答え各10点[20]


(しき)

7 + 3 - 5 = 5

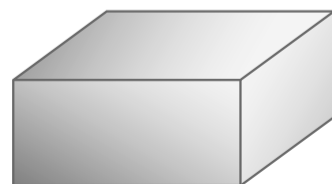
こたえ ( 5にん )

4 ㊦、㊩、㊵の つみきの かたちを うつして、したの えをかきました。どの つみきを なんかい つかいましたか。 各10点[30]

[かいた え]



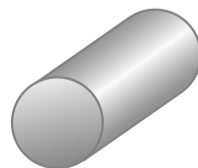
㊦



1

かい

㊩



2

かい

㊵



2

かい