

さんすう

ふゆやすみまえの まとめ

30
87
なまえ

出題範囲 9. 10より おおきい かず～15. ひきざん(2)

くみ ばん

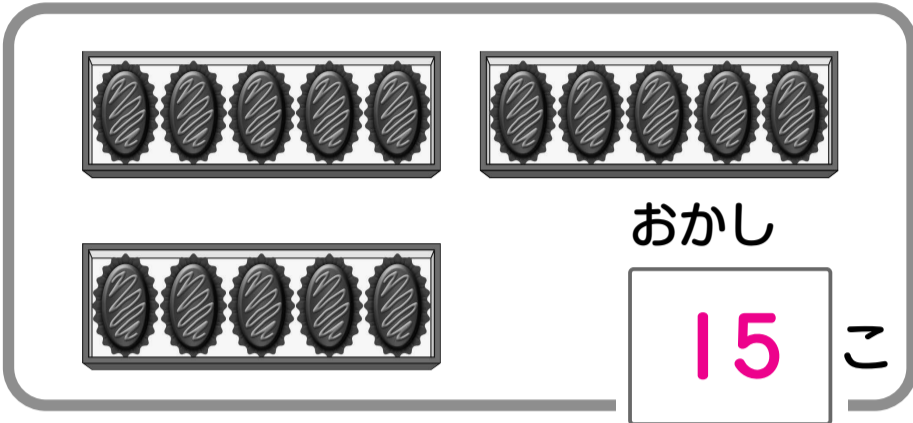
知識・技能

/100
てん

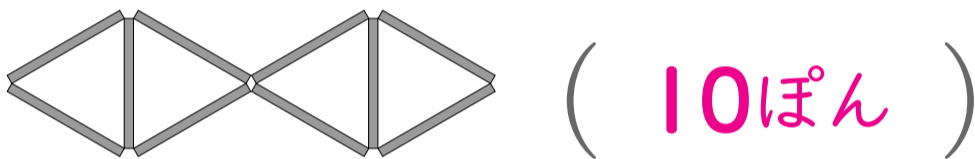
知識・技能

・10より おおきい かず、ぼうの かず、とけいの よみかた、ながさや かさの くらべかたが わかる。(1～5)
・たしざん、ひきざん、3つの かずの けいざんが できる。(6～8)

1 かずを かきましょう。 [10]



2 ぼうが なんぼんで できて いますか。 [10]



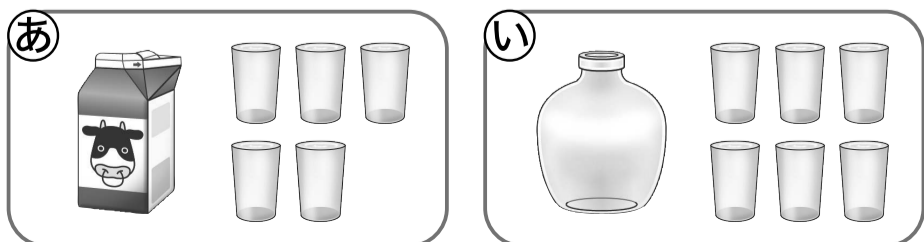
3 とけいを よみましょう。 [10]



4 ながい ほうに ○を つけましょう。 [10]



5 ㊦と ㊩の どちらが おおく はいりますか。 [10] (㊩)



6 たしざんを しましょう。 各5点[20]

① $10 + 8 = 18$

② $13 + 2 = 15$

③ $7 + 6 = 13$

④ $5 + 9 = 14$

7 ひきざんを しましょう。 各5点[20]

① $14 - 4 = 10$

② $16 - 2 = 14$

③ $12 - 7 = 5$

④ $13 - 4 = 9$

8 けいざんを しましょう。 各5点[10]

① $8 + 2 + 5 = 15$

② $10 - 8 + 3 = 5$



ふゆやすみまえの まとめ

なまえ
30
87

くみ

ばん

思考・判断・表現

/100
てん


思考・判断・表現
●もんだいの ばめんを かんがえて しきを かき、こたえを もとめる ことが できる。(1~3)
●いくつぶんで かんがえ、ながさを くらべる ことが できる。(4)

1 はとが 6わ いました。5わ とんで きました。

[35]

① ぶんにあう えに、○を つけましょう。

(10)



② ぜんぶで なんわに なりましたか。

式15点・答え10点(25)

式の採点基準

~~~~の部分が正しければ、15点を配点してもよい。→1~3

(しき)

$$6 + 5 = 11$$

こたえ ( 11わ )

2 りすが 15ひき、さるが 8ひき います。

どちらの ほうが なんびき おおいですか。

式15点・答え10点(25)

(しき)

$$15 - 8 = 7$$

こたえ ( りすの ほうが 7 ひき おおい。 )  
(完答)

3 こどもが 6にん います。そこへ 4にん きました。その  
あと 5にん かえりました。こどもは なんにんに なりましたか。

式15点・答え10点(25)

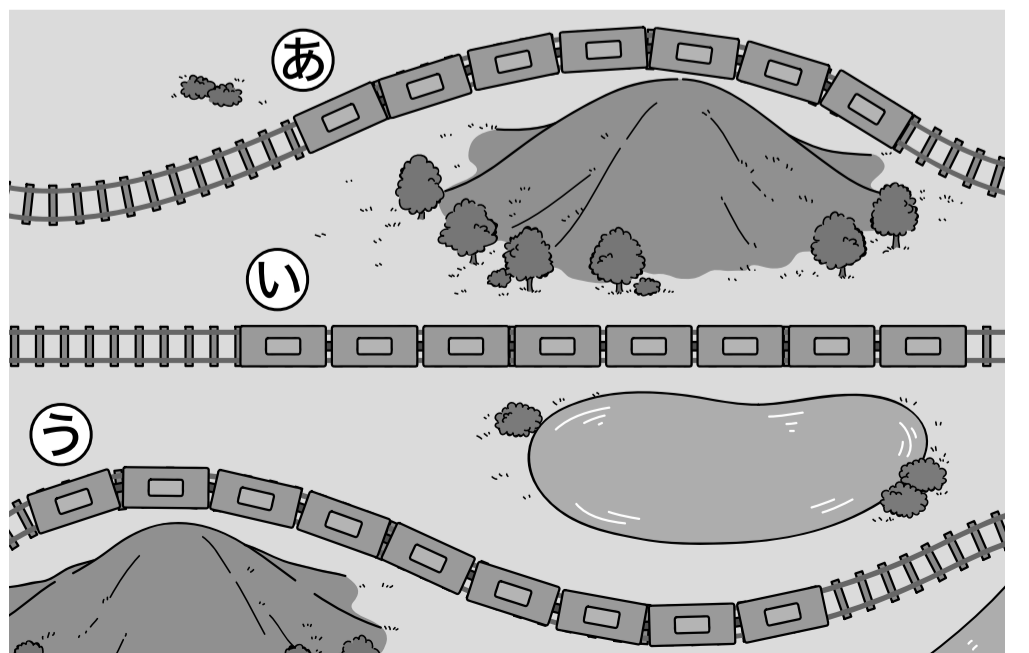
(しき)

$$6 + 4 - 5 = 5$$

こたえ ( 5にん )

4 れっしゃの ながさを  
くらべます。いちばん ながい  
れっしゃは どれですか。 (15)

( ⑤ (の れっしゃ) )



みなおしたら、○を つけましょう。( )