

知識・技能

- 10000までの数のあらわし方、正方形・長方形・直角三角形、かさや長さのたんのいのかんけいがかかる。(146)
- たし算・ひき算のひっ算やかけ算九九、時こくをもとめること、ものさしのめもりをよむことができる。(2357)

1 つぎの ^{かず}数を ^{すうじ}数字で ^か書きましょう。
各5点[15]

- ① 100を 4こ、10を 2こ、
1を 7こ あわせた 数 ()
- ② 1000を 6こ、10を 8こ、
1を 5こ あわせた 数 ()
- ③ 100を 59こ
あつめた 数 ()

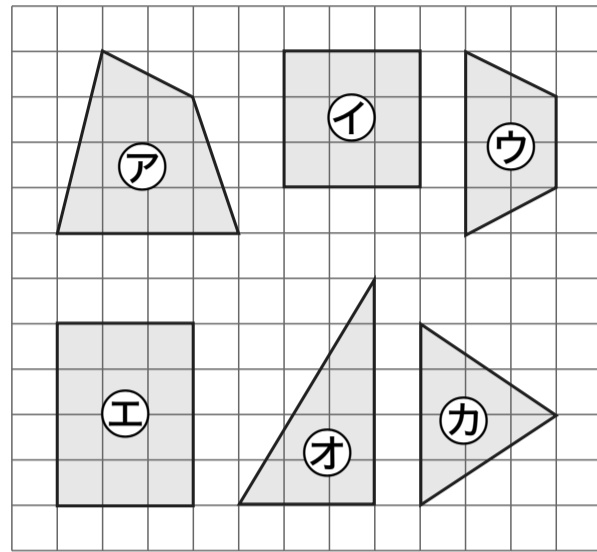
2 ^{けいさん}計算を しましょう。
各5点[20]

| | |
|---|--|
| ① $\begin{array}{r} 85 \\ + 49 \\ \hline \end{array}$ | ② $\begin{array}{r} 235 \\ + 47 \\ \hline \end{array}$ |
| ③ $\begin{array}{r} 351 \\ - 4 \\ \hline \end{array}$ | ④ $\begin{array}{r} 106 \\ - 38 \\ \hline \end{array}$ |

3 ^{ざん}かけ算を しましょう。
各5点[25]

- ① 2×8
- ② 9×5
- ③ 8×7
- ④ 7×3
- ⑤ 6×6

4 ^{せいほうけい}正方形、^{ちやうほうけい}長方形、^{ちやうかくさんかくけい}直角三角形は
どれですか。
各5点[15]



- ▶ 正方形 ()
- ▶ 長方形 ()
- ▶ 直角三角形 ()

5 ^{いま}今の ^じ時こくは、8時^{ぶん}20分です。
^{まえ}20分前の ^{いま}時こくを 書きましょう。 [5]

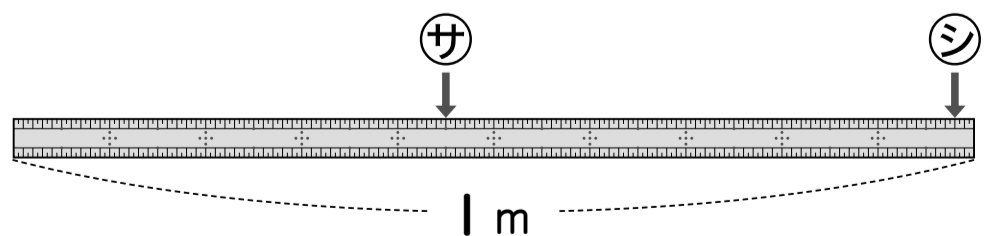


()

6 □に あう 数を 書きましょう。
各5点[10]

- ① 1L = □ mL
- ② 300cm = □ m

7 左はしから、^ササ、^シシまでの ^{なが}長さは、
それぞれ どれだけですか。
各5点[10]



- サ () シ ()



学年の まとめ

なまえ
上
8
下
79

くみ ばん

思考・判断・表現

/100
てん

出題範囲 1. グラフと ひょう ~ 15. たし算と ひき算

思考・判断・表現

- もんだいのばめんを考へてしきをたて、答へをもとめることができる。(1~356)
- かけ算のしきのいみを考へることができる。(2)

1 94円の ノートと、78円の
ペンを 買います。だいは
いくらに なりますか。
(しき)

式・答え各5点[10]

ひっ算スペース

こた
答え ()

2 赤い 花が 131本、白い 花が
69本 あります。ちがいは
何本ですか。
(しき)

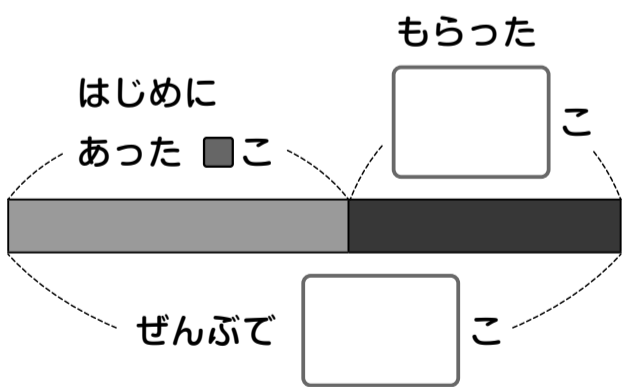
式・答え各5点[10]

答え ()

3 ビー玉が 何こか あります。妹に
12こ もらったので、27こに
なりました。

式・答え各5点[20]

① □に あう 数を 書きましよう。



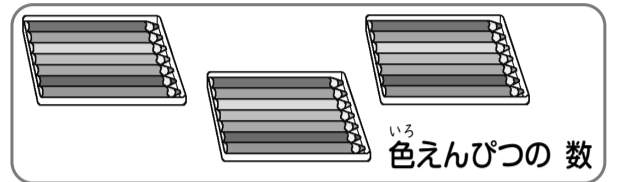
② ビー玉は、はじめに 何こ
ありましたか。
(しき)

答え ()

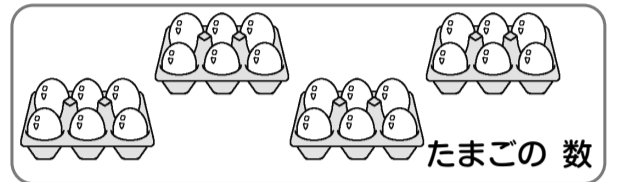
4 しきに あう 絵を えらんで、線で
むすびましよう。

各5点[20]

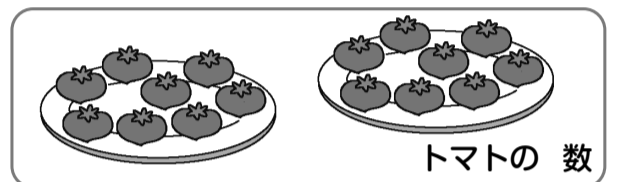
8 × 2



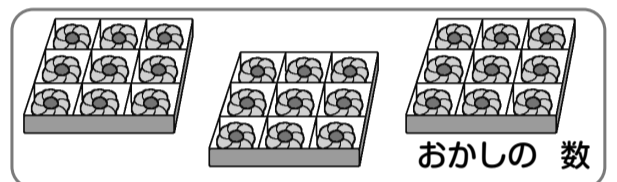
6 × 4



9 × 3



7 × 3



5 あめを 1人に 6こずつ くばります。

式・答え各5点[20]

① 8人に くばるには、あめは ぜんぶで
何こ いりますか。
(しき)



しきは、下の
やくそくて 書こうね。
1人分の 数 × 何人分

答え ()

② 1人 ふえて、9人に くばります。
あめは ぜんぶで 何こ いりますか。
(しき)

答え ()

6 3m 7cmの テープと、2mの
テープが あります。

式・答え各5点[20]

① あわせると 何m何cmに なりますか。
(しき)

答え ()

② 長さの ちがいは 何m何cmですか。
(しき)

答え ()