

知識・技能

• 10000までの数のあらわし方、正方形・長方形・直角三角形、かさや長さのたんのいのかんけい、長さの大小、時こくや時間がわかる。(12~7)
• たし算やひき算のひっ算やかけ算九九ができる。(23)

1 つぎの ^{かず}数を ^{すうじ}数字で ^か書きましょう。
各5点[15]

① 100を 4こと、10を 2こと、
1を 7こ ^あ合わせた 数。()

② 1000を 6こと、10を 8こと、
1を 5こ ^あ合わせた 数。()

③ 100を 59こ
あつめた 数。()

2 ^{けいさん}計算を しましょう。
各5点[20]

① $\begin{array}{r} 76 \\ + 58 \\ \hline \end{array}$	② $\begin{array}{r} 235 \\ + 47 \\ \hline \end{array}$
③ $\begin{array}{r} 106 \\ - 38 \\ \hline \end{array}$	④ $\begin{array}{r} 351 \\ - 4 \\ \hline \end{array}$

3 ^{ざん}かけ算を しましょう。
各5点[20]

① 3×8

② 9×5

③ 8×7

④ 7×4

4 ^{せいほうけい}正方形、^{ちようほうけい}長方形、^{ちようかくさんかくけい}直角三角形は
どれですか。
各5点[15]

▶正方形 ()

▶長方形 ()

▶直角三角形 ()

5 □に あう 数を 書きましょう。
各5点[10]

① 1L = □ mL

② 300cm = □ m

6 □に あう >, <, =を 書きましょう。
各5点[10]

① 90cm □ 1 m

② 4m 3cm □ 403cm

7 右の ^{とけい}時計の ^じ時こくは、
^{ごぜん}午前8時20分です。
各5点[10]



① 20分前^{まえ}の ^{なん}時こくは、
何時ですか。()

② 午前9時までは、あと ^{かん}何分間
ありますか。()



学年の まとめ

上 12 下 100

くみ ばん

思考・判断・表現

/100 てん

出題範囲 1. ひょうと グラフ~ 20. しりょうの せいり

思考・判断・表現

- もんだいのばめんを考えてしきをたて、答えをもとめることができる。(1~356)
- かけ算のしきのいみを考えることができる。(2)

1 94円の ノートと、78円の
ペンを 買います。ぜんぶで
何円ですか。

式・答え各5点[10]

(しき)

ひっ算スペース

こた 答え ()

2 赤い 花が 125本、白い 花が
69本 あります。ちがいは
何本ですか。

式・答え各5点[10]

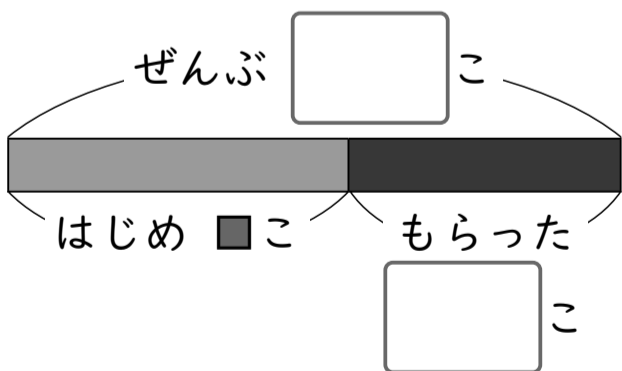
(しき)

こた 答え ()

3 ビー玉が 何こか あります。妹に
12こ もらったので、27こに
なりました。

式・答え各5点[20]

① □に あう 数を 書きましょう。



② ビー玉は、はじめに 何こ
ありましたか。

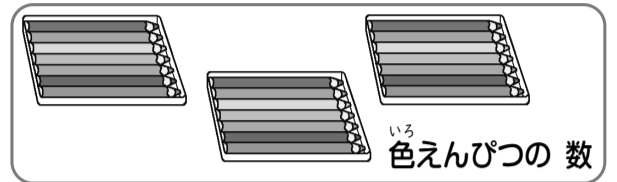
(しき)

こた 答え ()

4 しきに あう 絵を えらんで、線で
むすびましょう。

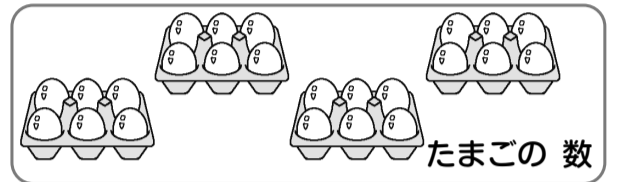
各5点[20]

8 × 2



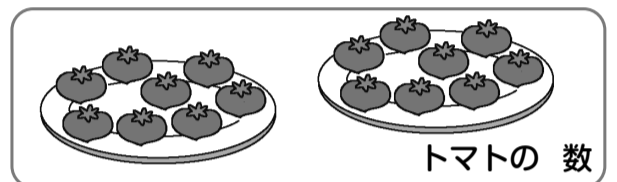
いろ 色えんぴつの 数

6 × 4



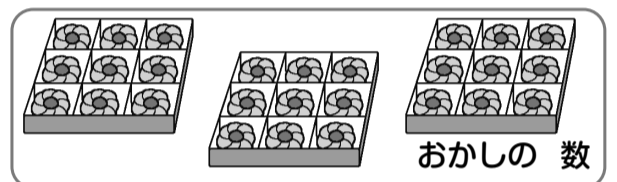
たまごの 数

9 × 3



トマトの 数

7 × 3



お菓しの 数

5 あめを 1人に 4こずつ くばります。

式・答え各5点[20]

① 8人に くばるには、あめは ぜんぶで
何こ いりますか。

(しき)



しきは、下の
やくそくて 書こうね。

1人分の 数 × 何人分

こた 答え ()

② 1人 ふえて、9人に くばります。
あめは ぜんぶで 何こ いりますか。

(しき)

こた 答え ()

6 1 m 45 cmの テープと、30 cmの
テープが あります。

各5点[20]

① 合わせると 何m何cmに なりますか。

(しき)

こた 答え ()

② ちがいは 何m何cmですか。

(しき)

こた 答え ()