



夏休み前のまとめ

出題範囲 1. かけ算～6. ぼうグラフと表

名
前
8
79

組 番

知識・技能

/100
点

知識・技能

- かけ算のきまりや、わり算の答えのもとのめ方、長さのたんのいのかんけい、ぼうグラフの読み方がわかる。(1363)
- 10や0のかけ算、わり算、たし算・ひき算の筆算、時こくや時間をもとめることができる。(2457)

1 □にあてはまる数を書きましょう。

各5点[15]

① $9 \times 4 = 4 \times \square$

② $3 \times 5 = 3 \times 4 + \square$

③ $6 \times 7 = 6 \times 8 - \square$

2 かけ算をしましょう。

各5点[10]

① 3×10

② 4×0

3 つぎのわり算の答えをもとめるには、何のだんの九九を使えばよいですか。

各5点[10]

① $30 \div 5$ () のだん

② $48 \div 6$ () のだん

4 わり算をしましょう。

各5点[15]

① $16 \div 2$

② $72 \div 9$

③ $0 \div 7$

5 計算をしましょう。

各5点[20]

①
$$\begin{array}{r} 582 \\ + 147 \\ \hline \end{array}$$

②
$$\begin{array}{r} 948 \\ + 53 \\ \hline \end{array}$$

③
$$\begin{array}{r} 529 \\ - 84 \\ \hline \end{array}$$

④
$$\begin{array}{r} 703 \\ - 265 \\ \hline \end{array}$$

6 □にあてはまる数を書きましょう。

各5点[10]

① $1700 \text{ m} = \square \text{ km } \square \text{ m}$

② $1 \text{ km } 90 \text{ m} = \square \text{ m}$

7 次の時こくや時間をもとめましょう。

各5点[10]

① 2時30分から50分後の時こく

()

② 7時40分から8時20分までの時間

()

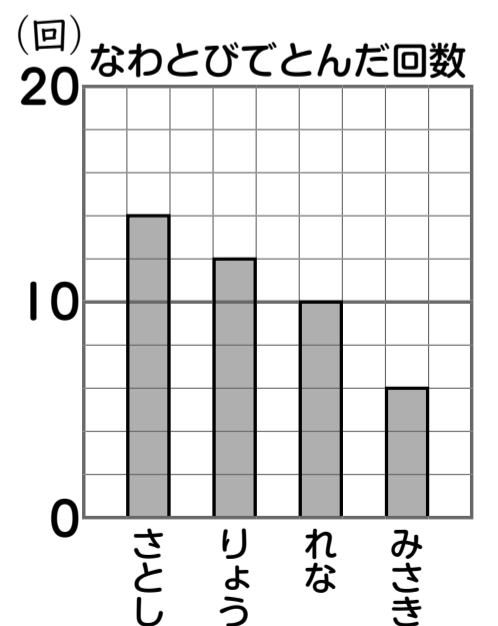
8 右のぼうグラフを見て答えましょう。

各5点[10]

① グラフの | めもりは、何回を表していますか。()

② とんだ回数がいちばん多いのはだれですか。また、何回ですか。

▶ 名前 () ▶ 回数 ()



算数

夏休み前のまとめ

出題範囲 1. かけ算～6. ぼうグラフと表

名前
8
79

組 番

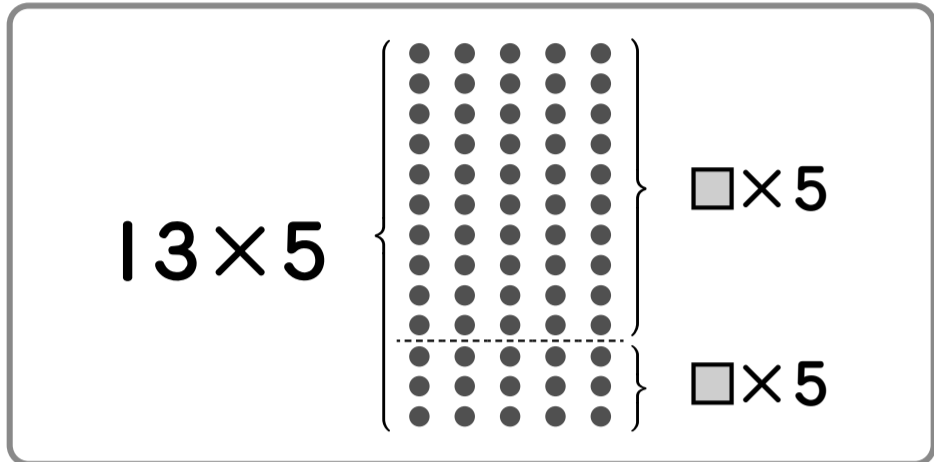
思考・判断・表現

/100
点

思考・判断・表現

問題の場面を考えて、答えをもとめることができる。(1～5)

1 **13×5**の答えをもとめるのに、次のように考えました。□にあてはまる数を書きましょう。各10点[30]



13は10と3に分けられるから、

$$13 \times 5 \begin{cases} \square \times 5 = 50 \\ \square \times 5 = \square \end{cases}$$

あわせて

2 れなさんは1時50分から2時10分までトランプをしました。トランプをしていた時間は、何分ですか。[10]


()

3 **63**このボールを、**9**つのかごに同じ数ずつ入れます。1つのかごに入るボールは何個になりますか。式・答え各10点[20]

しき
(式)

答え ()

4 ^{どうぶつえん}動物園に入場した子どもの人数は、おとなの人数より**2173**人多く、**5631**人でした。入場したおとなの人数は何人ですか。



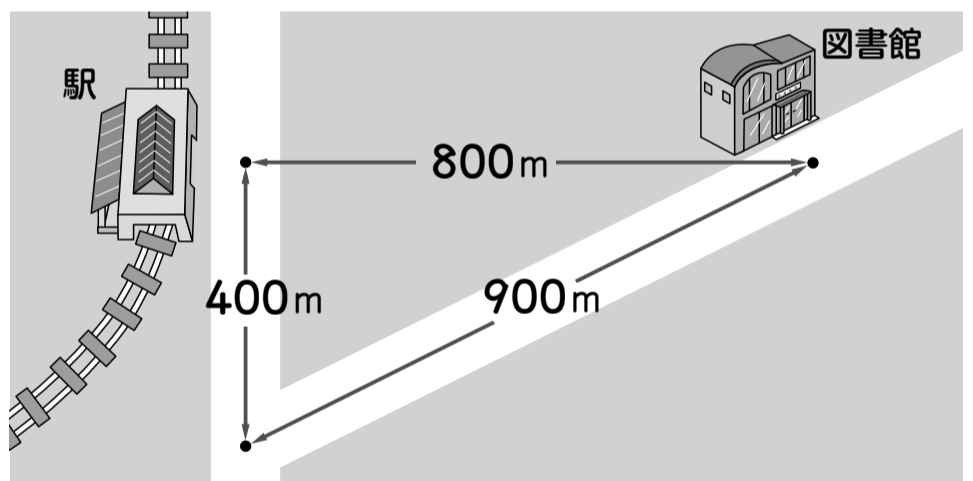
式・答え各10点[20]

(式)

筆算スペース

答え ()

5 下の絵地図を見て答えましょう。各10点[20]



① ^{えき}駅から^{としょかん}図書館までのきよりは何mですか。

()

② 駅から図書館までの道のりは何km何mですか。

()

見なおしたら、○をつけましょう。()