

さんすう

なつやすみまえの まとめ

出題範囲 1. なかまづくりと かず~4. のこりは いくつ ちがいは いくつ

なまえ
1-①
3
1-②
25

くみ

ばん

知識・技能


/100
てん

知識・技能

- 10までの かずの かぞえかたや かきかた、おおきさ、じゅんばんが わかる。(1~4)
- 10までの かずを いくつと いくつに わける ことや、たしざん、ひきざんが できる。(5~7)

1 かずを かきましょう。

各10点[20]



こども

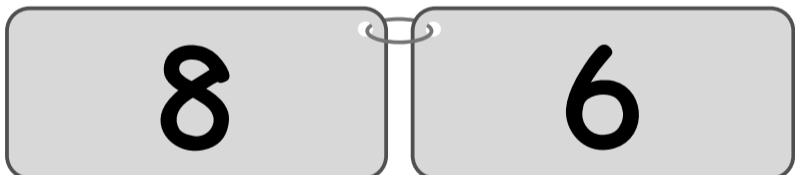
にん

さかな

ひき

2 かずの おおきい ほうに ○を つけましょう。

[10]



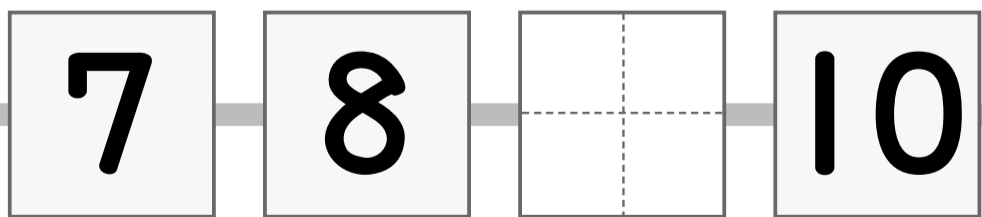
()

()

3

 に あう かずを かきましょう。

[10]



4 まえから 4 だいに いろを ぬりましょう。

[10]

まえ



こう

5

 に あう かずを かきましょう。

各5点[10]

① 5 は 2 と

② 10 は 1 と

6 たしざんを しましょう。

各5点[20]

① $2 + 2 =$

② $5 + 3 =$

③ $3 + 7 =$

④ $0 + 6 =$

7 ひきざんを しましょう。

各5点[20]

① $7 - 3 =$

② $9 - 6 =$

③ $10 - 8 =$

④ $5 - 0 =$



なつやすみまえの まとめ

なまえ
1-① 3
1-② 25

くみ ばん

思考・判断・表現

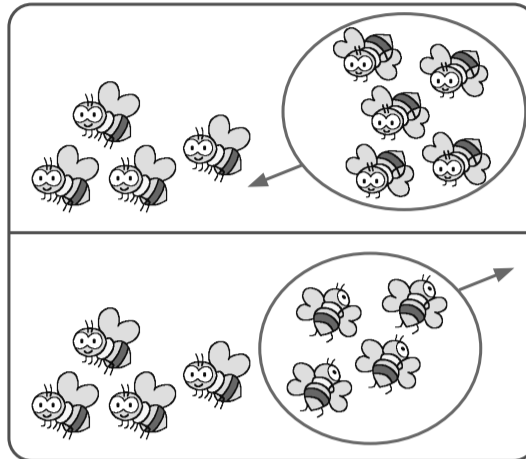
/100
てん

思考・判断・表現 • もんだいの ばめんを かんがえて しきを かき、こたえを もとめる ことが できる。(◆)

◆ ぶんに あう えを えらんで、^{せん}で おすびましょう。
しきと こたえも かきましょう。

— 10点、式・答え各5点 [100]

① はちが **4**ひき
います。**5**ひき
とんで きました。
ぜんぶで なんびきに
なりましたか。

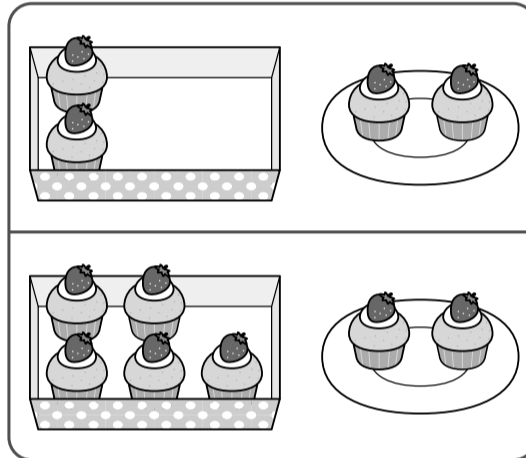


(しき)

こたえ

 ひき

② けえきが はこに
5こ、おさらに
2こ あります。
あわせて なんこ
ありますか。




(しき)

こたえ

 こ

③ みかんが **6**こ
あります。**2**こ
たべました。
のこりは なんこに
なりますか。

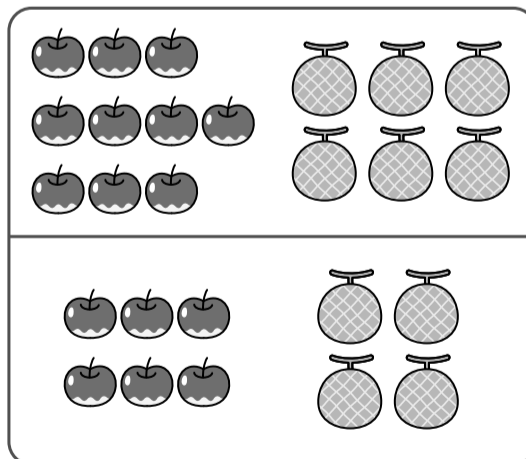


(しき)

こたえ

 こ

④ りんごが **10**こ、
めろんが **6**こ
あります。りんごは、
めろんより なんこ
おいですか。

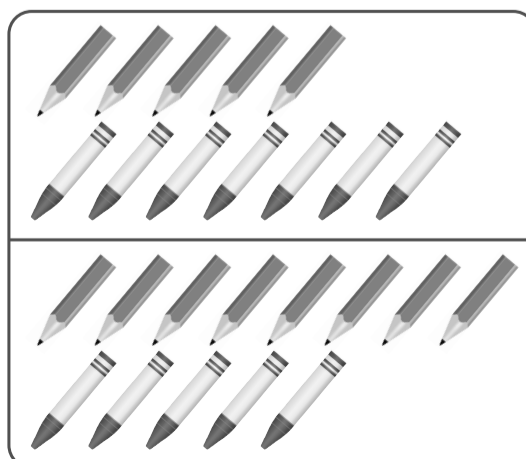


(しき)

こたえ

 こ

⑤ えんぴつが
8ほん、くれよんが
5ほん あります。
かずの ちがいは
なんぼんですか。



(しき)

こたえ

 ぼん