

出題範囲 1. ひょうと グラフ~ 8. 1000までの 数

知識・技能

• グラフの読み方、1000までの数のあらわし方、時こくの読み方や時間のもともめ方、長さのはかり方やたんのいのかんけいがかかる。(124~7)  
• たし算とひき算のひっ算ができる。(8)

1 おかしの 数を しらべました。 各5点[15]

おかしの 数 ① ゼリーは 何こですか。

○		
○		
○	○	
○	○	
○	○	○
○	○	○
○	○	○
あめ	ゼリー	ケーキ

( )

② いちばん 多い おかしは 何ですか。 ( )

③ あめは、ケーキより 何こ 多いですか。 ( )

2 つぎの 数を 数字で 書きましょう。 各5点[15]

① 二百八十一 ( )

② 100を 4こ、1を 9こ 合わせた 数。 ( )

③ 10を 50こ あつめた 数。 ( )

3 計算を しましょう。 各5点[30]

① 
$$\begin{array}{r} 16 \\ + 23 \\ \hline \end{array}$$

② 
$$\begin{array}{r} 43 \\ + 39 \\ \hline \end{array}$$

③ 
$$\begin{array}{r} 75 \\ + 15 \\ \hline \end{array}$$

④ 
$$\begin{array}{r} 69 \\ - 27 \\ \hline \end{array}$$

⑤ 
$$\begin{array}{r} 54 \\ - 19 \\ \hline \end{array}$$

⑥ 
$$\begin{array}{r} 72 \\ - 68 \\ \hline \end{array}$$

4 つぎの 時こくを 午前、午後を つかって 書きましょう。 各5点[10]

① 朝



( )

② 夜



( )

5 つぎの 時間を もとめましょう。 各5点[10]



午後3時15分



午後3時35分

▶あから いまでの 時間 ( )



午前10時



午後2時

▶うから えまでの 時間 ( )

6 つぎの 直線の 長さを はかりましょう。 各5点[10]

① \_\_\_\_\_ ( )

② \_\_\_\_\_ ( )

7 □に あう 数を 書きましょう。 各5点[10]

① 1 cm = □ mm

② 67 mm = □ cm □ mm



なつ休みまえの まとめ

な  
ま  
え  
12  
99

くみ ばん

思考・判断・表現


/100  
てん

出題範囲 1. ひょうと グラフ~ 8. 1000までの 数

思考・判断・表現 • もんだいのばめんを考えてしきをたて、答えをもとめることができる。(1~5)

1 つぎのおかしを <sup>か</sup>買います。  
<sup>あ</sup>合わせて <sup>なん</sup>何円ですか。

式・答え各10点[20]



(しき)

こた  
答え ( )

2 子どもが 47人 います。16人  
くると、みんなで 何人になりますか。

式・答え各10点[20]

(しき)

ひっ算スペース

答え ( )

3 赤い 花が 60本、黄色い <sup>きいろ</sup>花が  
29本 あります。ちがいは 何本ですか。


式・答え各10点[20]

(しき)

答え ( )

4 下の <sup>せん</sup>線の <sup>なが</sup>長さは どれだけ  
ですか。

式・答え各10点[20]

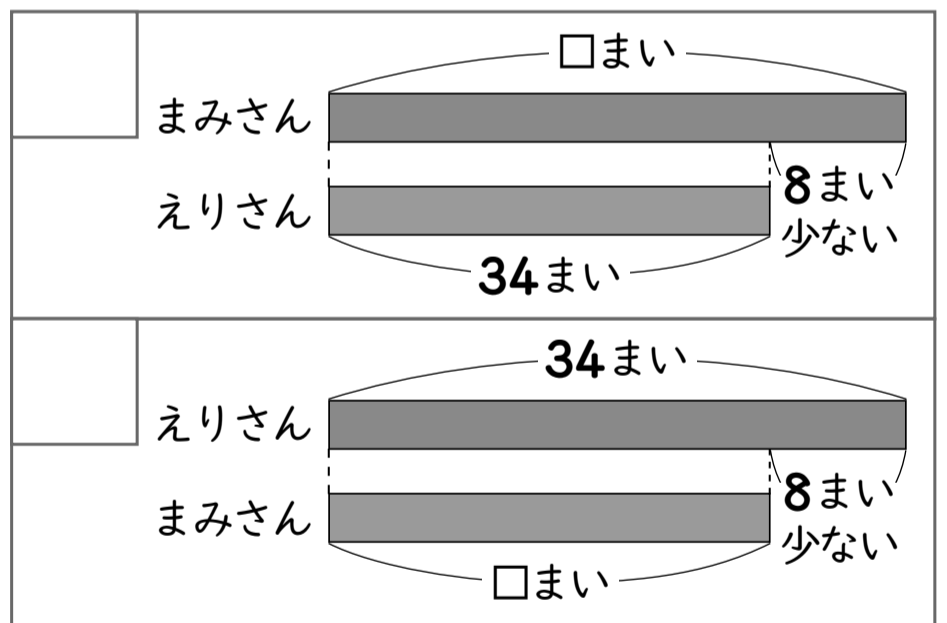


(しき)

答え ( )

5 えりさんは、シールを 34まい  
もっています。まみさんは、  
えりさんより 8まい <sup>すく</sup>少ないそうです。  
[20]

① 文に あう 図に ○を つけましょう。  
(10)



② まみさんは、何まい もっていますか。  
式・答え各5点(10)

(しき)

答え ( )