

さんすう

なつやすみまえの まとめ

なまえ
2
53

出題範囲 たんけん～4. あわせていくつ ふえるといくつ

くみ

ばん

知識・技能

/100
てん

知識・技能

- 10までの かずの かぞえかたや かきかた、おおきさ、じゅんばんが わかる。(1～4)
- 10までの かずを いくつと いくつに わけることや、たしざんが できる。(5⑥)

1 かずを かきましょう。

各10点[20]



こども

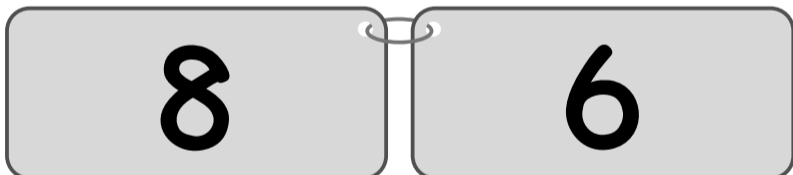
にん

さかな

ひき

2 かずの おおきい ほうに ○を つけましょう。

[10]



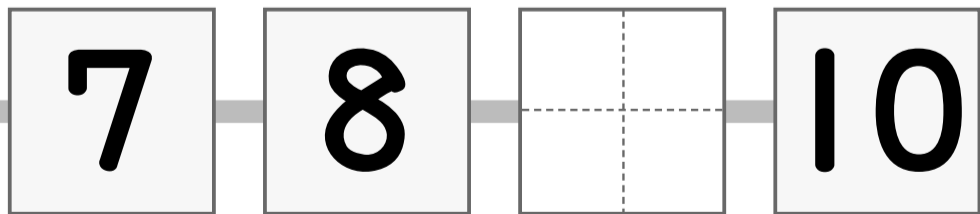
()

()

3

 に あう かずを かきましょう。

[10]



4 まえから 4 だいに いろを ぬりましょう。

[10]

まえ



こうろ

5

 に あう かずを かきましょう。

各5点[10]

① 8 は 4 と

② 10 は 7 と

6 たしざんを しましょう。

各5点[40]

① $2 + 1 =$

② $3 + 3 =$

③ $1 + 7 =$

④ $6 + 3 =$

⑤ $5 + 4 =$

⑥ $4 + 6 =$

⑦ $8 + 0 =$

⑧ $0 + 0 =$



なつやすみまえの まとめ

なまえ 2~53

くみ ばん

思考・判断・表現

/100 てん

出題範囲 たんけん ~ 4. あわせて いくつ ふえると いくつ


思考・判断・表現

- もんだいの ばめんを かんがえて しきを かき、こたえを もとめる ことが できる。(13)
- しきに あう ばめんを みつける ことが できる。(2)

1 こうえんで こどもが あそんでいます。すなばに 3 にん、すべりだいに 4 にん います。あわせて なんにん いますか。

[40]

① ぶんに あう えに、
○を つけましょう。(10)



② こどもは あわせて なんにん いますか。

式・答え各15点(30)

(しき)

こたえ

にん



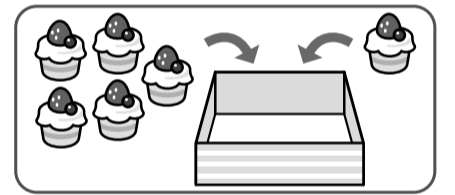
2 しきに あう えを
えらんで、^{せん}で
むすびましょう。 各15点[30]

①

$$3 + 2 = 5 \cdot$$


②

$$5 + 1 = 6 \cdot$$



3 はちが 4 ひき います。2 ひき とんでくると、
はちは ぜんぶで なんびきに なりますか。

式・答え各15点[30]



(しき)

こたえ

びき