



なつやすみまえの まとめ

なまえ
① 4
② 11

出題範囲 わくわく がっこう～6. たしざん(1)

くみ ばん

知識・技能

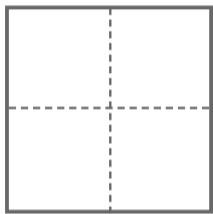
/100
てん

知識・技能
・10までの かずの かぞえかたや かきかた、おおきさ、じゅんばん、かたちが わかる。(1)～(4)
・10までの かずを いくつと いくつに わける ことや、たしざんが できる。(5)(6)

1 かずを かきましょう。 各10点[20]

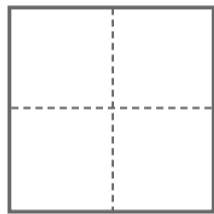


こども



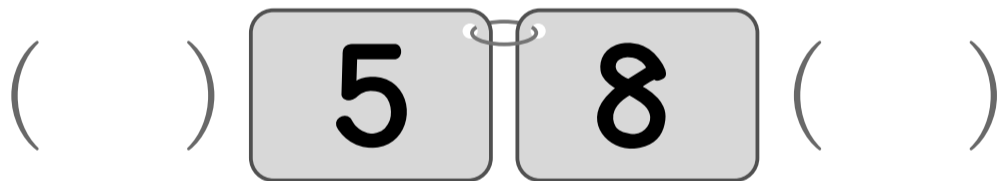
にん

さかな




ひき


2 かずの おおきい ほうに
○を つけましょう。 [10]



3 まえから 4 だいに いろを
ぬりましょう。 [10]



4 ●の なかまの かたちに
○を つけましょう。 [10]



5 に あう かずを
かきましょう。 各5点[10]

① 8は 4と

② 10は 7と

6 たしざんを しましょう。 各5点[40]

① $2 + 1 =$

② $3 + 3 =$

③ $1 + 7 =$

④ $6 + 3 =$

⑤ $5 + 4 =$

⑥ $4 + 6 =$

⑦ $2 + 5 =$

⑧ $9 + 1 =$



なつやすみまえの まとめ

なまえ
① 4
② 11

くみ ばん

思考・判断・表現

/100
てん


出題範囲 ① わくわく がっこう ~ 6. たしざん(1)

思考・判断・表現 • もんだいの ばめんを かんがえて しきを かき、こたえを もとめる ことが できる。(1) • しきに あう ばめんを みつける ことが できる。(2) • うつしとった かたちで かいた えが、どの かたちを つかって かいたのかを かんがえる ことが できる。(3)

1 こうえんで こどもが あそんで います。すなばに 3 にん、すべりだいに 4 にん います。

[40]

① ぶんにあう えに、○を つけましょう。(10)



② こどもは あわせて なんにん いますか。

式・答え各15点(30)

(しき)

こたえ

にん


2 しきに あう えを えらんで、^{せん}で むすびましょう。 各15点[30]

①

$3 + 2 = 5$.

②


$5 + 1 = 6$.



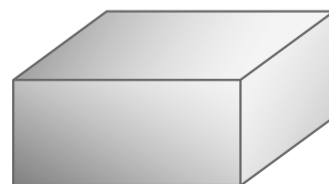
3 ㊤、㊦、㊧の つみきの かたちを うつして、したの えをかきました。どの つみきを なんかい つかいましたか。

各10点[30]

[かいた え]



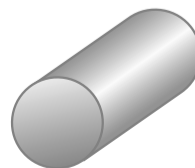
㊤



--

かい

㊦



--

かい

㊧



--

かい