



前期のまとめ

名 前
8
89

組 番

知識・技能

/100
点

出題範囲 1. 大きい数のしくみ～5. 小数のしくみ

知識・技能 ●大きい数の表し方や小数のしくみや大きさ、折れ線グラフの読み方、2本の直線が交わってできる角度がわかる。(1～5)
●整数のかけ算、1けたでわるわり算、小数のたし算・ひき算が筆算でできる。(6～8)

1 次の数を数字で書きましょう。 各5点[10]

① 二兆^{ちよう}五百九十四億^{おく}八千万

Blank grid for writing the number 20,594,000,000. The grid has 10 columns and 1 row, with a label '一の位' (ones place) on the right.

② 1億を820こ集めた数

Blank grid for writing the number 820,000,000. The grid has 10 columns and 1 row, with a label '一の位' (ones place) on the right.

2 次の数を書きましょう。 各5点[10]

① 1を7こ、0.1を5こ、0.001を3こあわせた数 ()

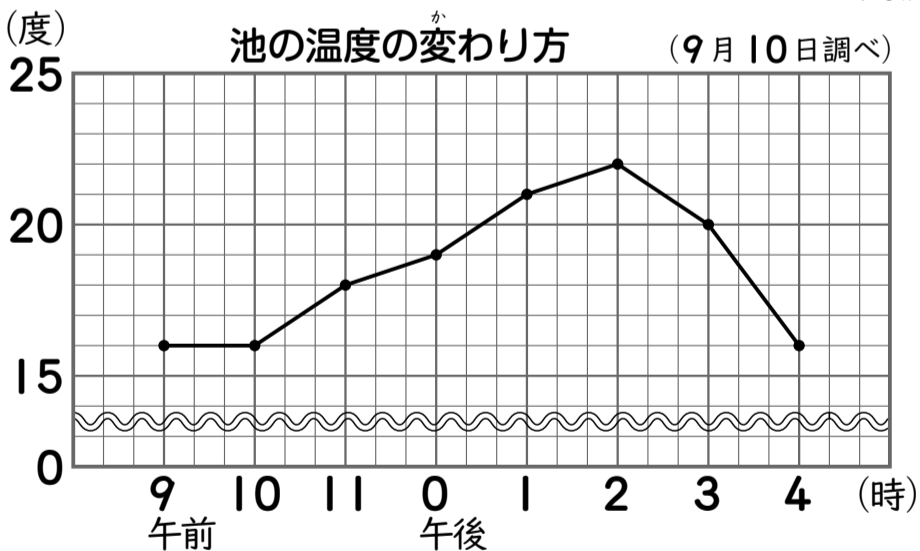
② 0.27を10倍した数 ()

3 □にあてはまる不等号を書きましょう。 各5点[10]

① 4.905 □ 4.91

② 13.506 □ 13.065

4 下の折れ線グラフを見て答えましょう。 各5点[20]



① 横とたてのじくは、何を表していますか。

横のじく () たてのじく ()

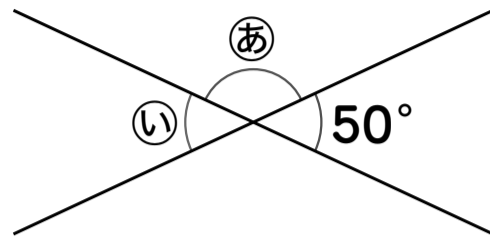
② いちばん高い温度は何度で、それは何時ですか。

温度 () 時こく ()
() で、 ()

③ 温度の変わり方がいちばん大きいのは、何時と何時の間ですか。

() と () の間

5 ①、②の角度を、計算で求めましょう。 各5点[10]



① ()

② ()

6 かけ算をしましょう。 各5点[10]

①
$$\begin{array}{r} 268 \\ \times 157 \\ \hline \end{array}$$

②
$$\begin{array}{r} 724 \\ \times 807 \\ \hline \end{array}$$

7 わり算をしましょう。 各5点[20]

①
$$4 \overline{) 98}$$

②
$$5 \overline{) 53}$$

③
$$2 \overline{) 560}$$

④
$$7 \overline{) 448}$$

8 計算をしましょう。 各5点[10]

①
$$\begin{array}{r} 1.76 \\ + 4.17 \\ \hline \end{array}$$

②
$$\begin{array}{r} 7.29 \\ - 5.94 \\ \hline \end{array}$$

算数

前期のまとめ

8
89
名前

組 番

思考・判断・表現

/100
点

出題範囲 1. 大きい数のしくみ～5. 小数のしくみ

思考・判断・表現 ●問題の場面を考えて、答えを求めることができる。(1～6)

1 学校行事で650円のお弁当を140こ注文しました。代金は全部でいくらになりますか。

式・答え各5点[10]

(式)

筆算スペース

答え ()

2 りんごが3.26kg、みかんが980gあります。

式・答え各5点[15]

① みかんの重さは何kgですか。

()

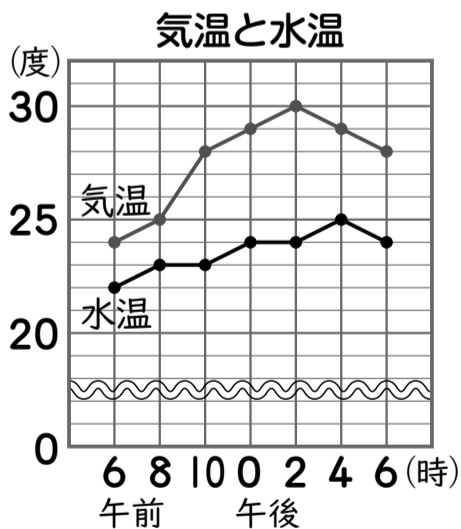
② りんごとみかんの重さのちがいは何kgですか。

(式)

答え ()

3 下の折れ線グラフを見て答えましょう。

各5点[15]



① 午後0時の気温は、何度ですか。

()

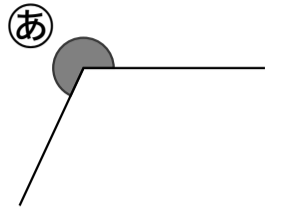
② 水温がいちばん高いのは、何時ですか。

()

③ 午前10時の気温と水温のちがいは何度ですか。

()

4 右の㉞の角度のはかり方を、まみさんとしゅんさんが説明しています。□にあてはまる数やことばを書きましょう。

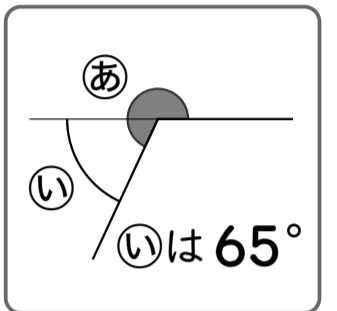


まみ

180°とあと何度かを考えます。

$$\textcircled{あ}は 180 + \square = 245$$

答え 245°

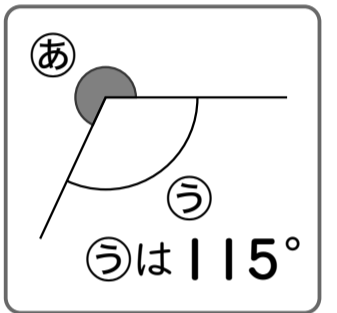


しゅん

360°から180°より□角度をひく。

$$\textcircled{あ}は 360 - \square = 245$$

答え 245°



5 62dLのジュースを、3dLずつコップに入れていきます。全部のジュースを入れるには、コップは何こ必要ですか。

式・答え各10点[20]

(式)

答え ()

6 下の㉟と㉞はどちらも10けたの整数です。㉟が㉞より大きくなるのは、□がどんな数字のときですか。全部書きましょう。

(完答)[10]

㉟

㉞

()