

# さんすう

## ぜんきの まとめ

なまえ  
1-①  
3  
1-②  
31

くみ ばん


知識・技能

/100  
てん

出題範囲 1. なかまづくりと かず～5. どちらが ながい

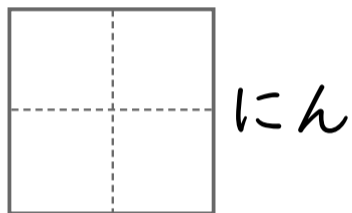
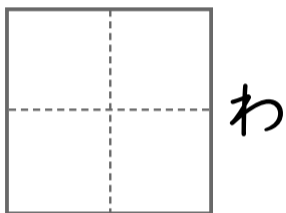
知識・技能  
・10までの かずの かぞえかたや かきかた、じゅんばん、ながさの くらべかたが わかる。(1～4)  
・10までの かずを いくつと いくつに わける ことや、たしざん、ひきざんが できる。(5～7)

1 かずを かきましょう。 各10点[20]

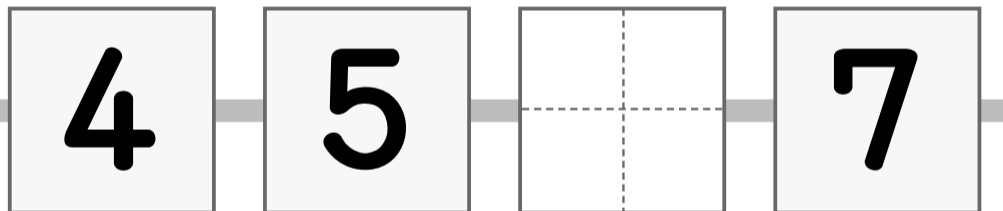


とり


こども




2  に あう かずを かきましょう。 [10]



3 みぎから 5つめに いろを ぬりましょう。 [10]



4 ながい ほうに ○を つけましょう。 [10]



5  に あう かずを かきましょう。 各5点[10]

① 8は 4と

② 10は 7と

6 たしざんを しましょう。 各5点[20]

①  $2 + 1 =$

②  $6 + 3 =$

③  $4 + 6 =$

④  $0 + 0 =$

7 ひきざんを しましょう。 各5点[20]

①  $9 - 5 =$

②  $7 - 2 =$

③  $10 - 9 =$

④  $4 - 0 =$



ぜんきの まとめ

出題範囲 1. なかまづくりと かず ~ 5. どちらが ながい

なまえ  
1-①  
3  
1-②  
31

くみ ばん

思考・判断・表現

/100  
てん

思考・判断・表現

•しきに あう ばめんを みつける ことが できる。(1) •もんだいの ばめんを かんがえて しきを かき、こたえを もとめる ことが できる。(2)(3)  
•いくつぶんで かんがえ、ながさを くらべる ことが できる。(4)



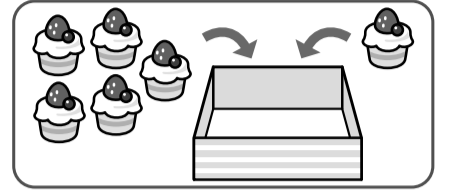
1 しきに あう えを  
えらんで、<sup>せん</sup>で  
むすびましょう。 各15点[30]

①

$3 + 2 = 5$  .

②

$5 + 1 = 6$  .



2 こうえんで こどもが あそんで います。すなばに 3にん、  
すべりだいに 4にん います。あわせて なんにん いますか。

式・答え各15点[30]


(しき) 


こたえ 


 にん

3 さるは、うさぎより なんびき おおいですか。

式・答え各15点[30]



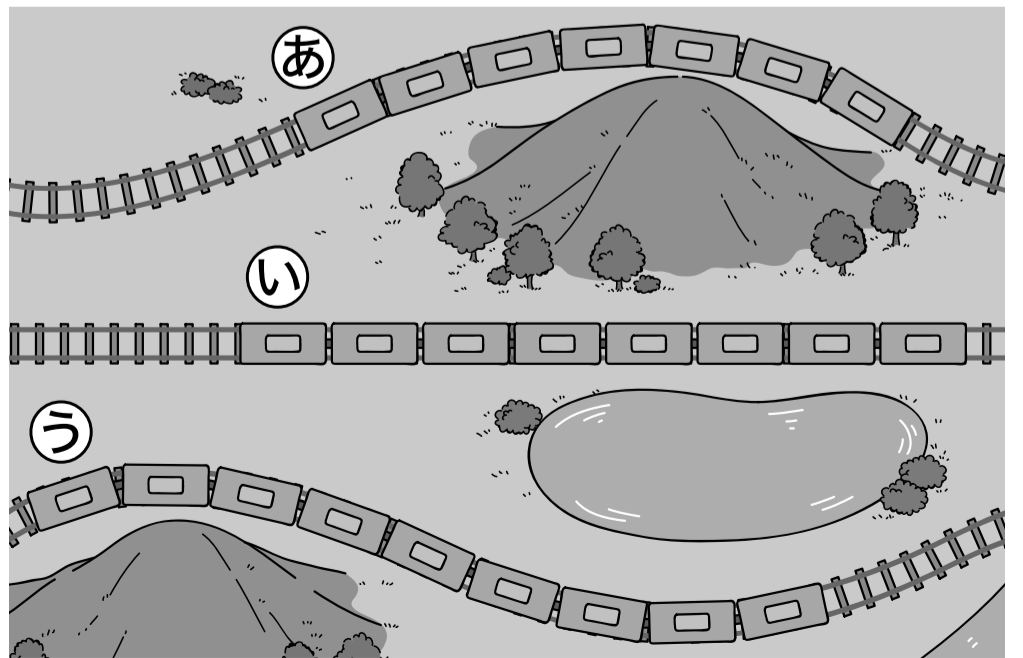
(しき) 


こたえ 


 びき

4 れっしゃの ながさを  
くらべます。いちばん ながい  
れっしゃは どれですか。 [10]

( )



みなおしたら、○をつけましょう。( )