



出題範囲 6. わかりやすく せいりしよう ~ 12. かたちあそび

知識・技能

- 10より おおきい かず、かたちの なかま、とけいの よみかた、かさや かずの くらべかたが わかる。(1~5)
- 10より おおきい かずの けいさんや、3つの かずの けいさん、たしざんが できる。(6~8)

1 かずを かきましょう。 [10]



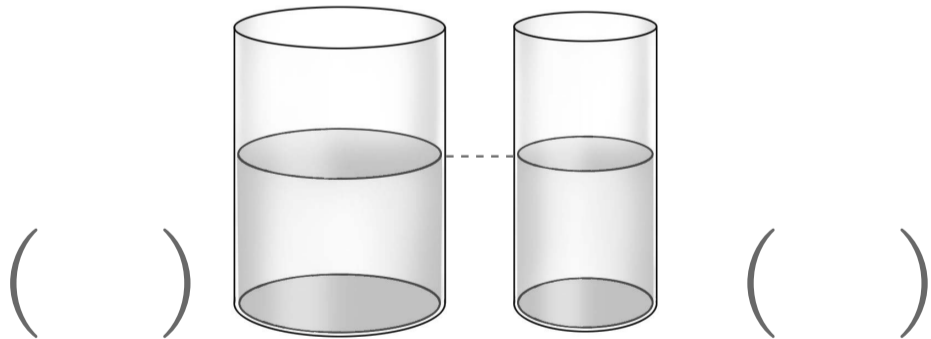
2  の かたちの なかまに ○を つけましょう。 [10]



3 とけいを よみましょう。 [10]


















4 おおく はいって いる ほうに ○を つけましょう。 [10]



5 おかしの かずだけ いろを ぬりました。 あめの かずは なんこですか。 [10]

()

		
		
		
		
		
けえき	あめ	せんべい

6 けいさんを しましょう。 各5点[10]

- ① $10+8$
- ② $16-2$

7 けいさんを しましょう。 各5点[10]

- ① $4+1+3$
- ② $12-2-4$
- ③ $10-8+3$
- ④ $6+2-5$

8 たしざんを しましょう。 各5点[20]

- ① $9+2$
- ② $8+5$
- ③ $7+8$
- ④ $6+7$



ふゆやすみまへの まとめ

32 ~ 75 なまえ

くみ ばん

思考・判断・表現

/100 てん

出題範囲 6. わかりやすく せいりしよう ~ 12. かたちあそび

思考・判断・表現


- もんだいの ばめんを かんがえて しきを かき、こたえを もとめる ことが できる。(1~3)
- うつしとった かたちで かいだ えが、どの かたちを つかって かいだのかを かんがえる ことが できる。(4)

1 はとが 6わ いました。5わ とんで きました。

[30]

① ぶんに あう えに、○を つけましょう。

(10)



② ぜんぶで なんわに なりましたか。

式・答え各10点(20)

(しき)

こたえ ()

2 りすが 15ひき、さるが 3びき います。

どちらが なんびき おおいですか。

式・答え各10点[20]

(しき)

こたえ (_____ が _____ ひき おおい。)

3 こどもが 7にん いました。3にん きました。そのあと 5にん かえりました。こどもは なんにんに なりましたか。

式・答え各10点[20]


(しき)

こたえ ()

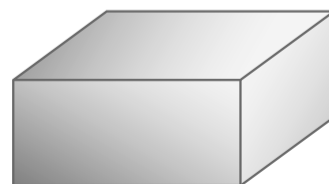
4 ㊤、㊦、㊧の つみきの かたちを うつして、したの えをかきました。どの つみきを なんかい つかいましたか。

各10点[30]

[かいた え]

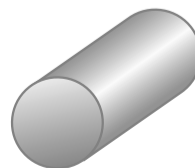


㊤



かい

㊦



かい

㊧



かい