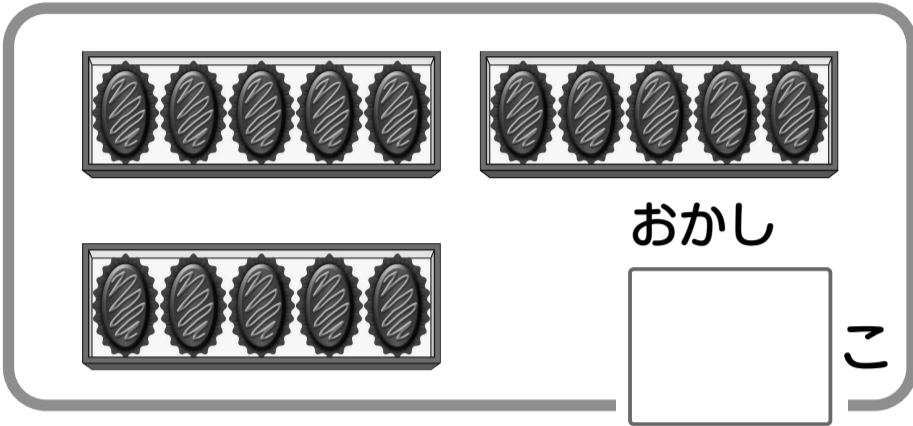


出題範囲 9. 10より おおきい かず～ 15. ひきざん(2)

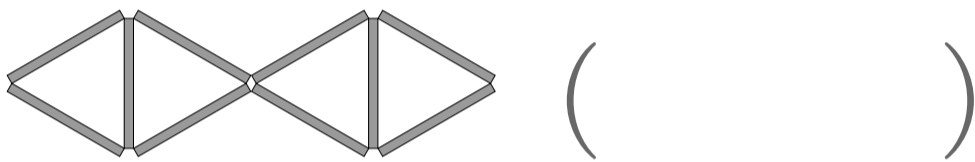
知識・技能

- 10より おおきい かず、ぼうの かず、とけいの よみかた、ながさや かさの くらべかたが わかる。(1～5)
- たしざん、ひきざん、3つの かずの けいざんが できる。(6～8)


1 かずを かきましょう。 [10]



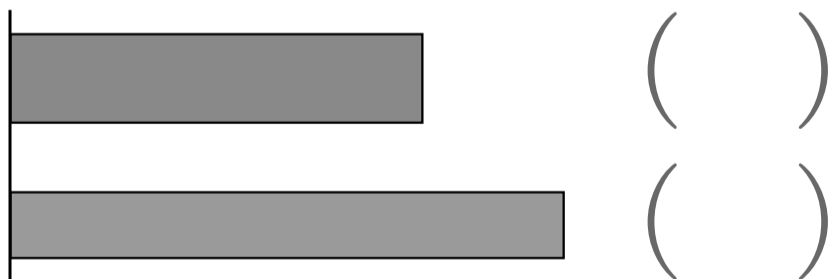
2 ぼうが なんぼんで できて いますか。 [10]



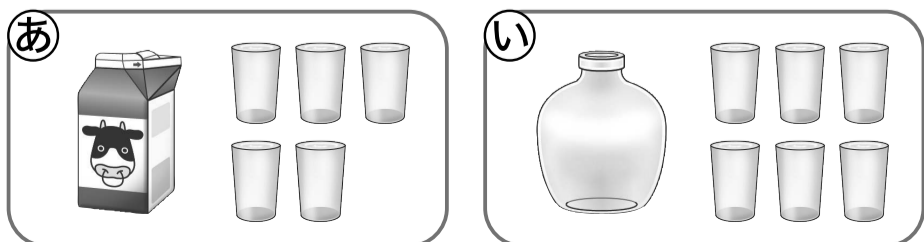
3 とけいを よみましょう。 [10]



4 ながい ほうに ○を つけましょう。 [10]



5 ㊦と ㊩の どちらが おおく はいりますか。 [10]



6 たしざんを しましょう。 各5点[20]

① $10+8$

② $13+2$

③ $7+6$

④ $5+9$

7 ひきざんを しましょう。 各5点[20]

① $14-4$

② $16-2$

③ $12-7$

④ $13-4$

8 けいざんを しましょう。 各5点[10]

① $8+2+5$

② $10-8+3$



ふゆやすみまえの まとめ

なまえ
30
87

くみ ばん

思考・判断・表現

/100
てん

出題範囲 9. 10より おおきい かず ~ 15. ひきざん(2)

思考・判断・表現


●もんだいの ばめんを かんがえて しきを かき、こたえを もとめる ことが できる。(1~3)
●いくつぶんで かんがえ、ながさを くらべる ことが できる。(4)

1 はとが 6わ いました。5わ とんで きました。

[35]

① ぶんにあう えに、○を つけましょう。

(10)



② ぜんぶで なんわに なりましたか。

式15点・答え10点(25)

(しき)

こたえ ()

2 りすが 15ひき、さるが 8ひき います。

どちらの ほうが なんびき おおいですか。

式15点・答え10点(25)

(しき)

こたえ (_____ の ほうが _____ ひき おおい。)

3 こどもが 6にん います。そこへ 4にん きました。その
あと 5にん かえりました。こどもは なんにんに なりましたか。

式15点・答え10点(25)

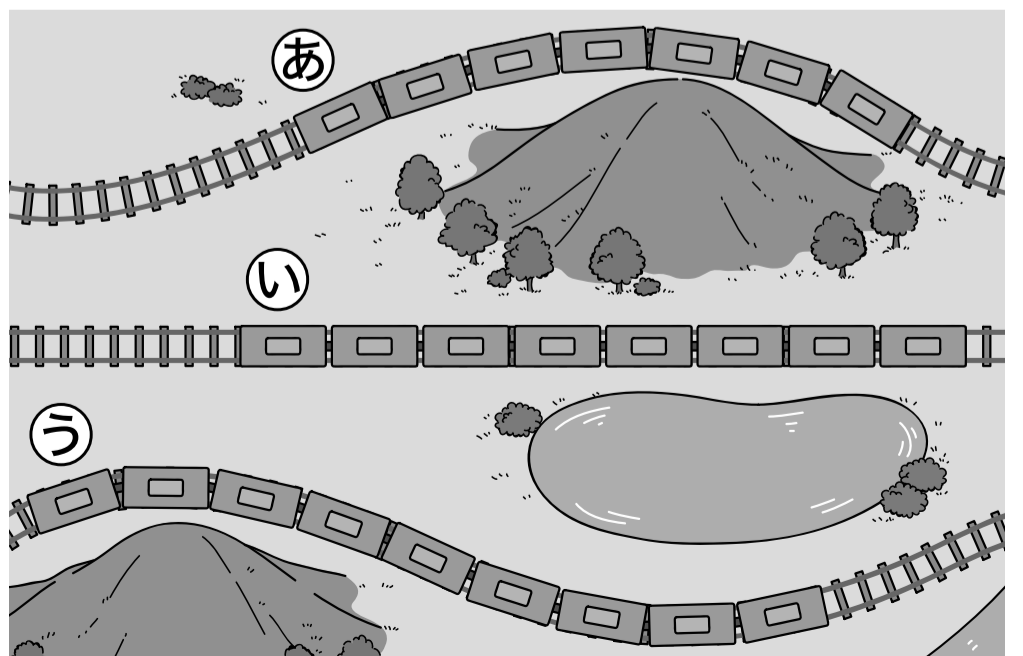
(しき)

こたえ ()

4 れっしゃの ながさを
くらべます。いちばん ながい
れっしゃは どれですか。

(15)

()



みなおしたら、○を つけましょう。()